



# Prueba


Nombre y apellidos



  

Fecha

1. ¿Cuántas hay? Dibuja los contadores y marca con una equis la mano correcta (2 puntos).






 

2     3

2. Rodea la mano que tiene cero dedos levantados (2 puntos).



3. Dibuja la misma cantidad (2 puntos).



# Prueba



Nombre y apellidos

Fecha

4. Dibuja la cantidad de bolas indicada y subraya la palabra correcta (2 puntos).

6



menos  
más  
igual

9



5. Escribe cómo se lee la cantidad de mariposas en cada caso (2 puntos).