




Prueba

Nombre y apellidos

Fecha

1. Luisa tiene 5 peces y le regalan 3 más.
¿Cuántos peces tiene en total? (2 puntos).



$$5 + \square = \square$$

Tiene peces.

2. Marco tiene 9 fresas y se come 5. Rodea cuántas fresas le quedan (2 puntos)

$$9 - 5 =$$

3
4
6
2



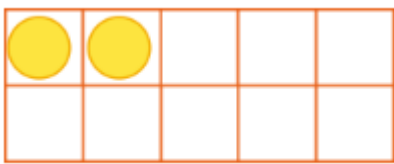


Prueba

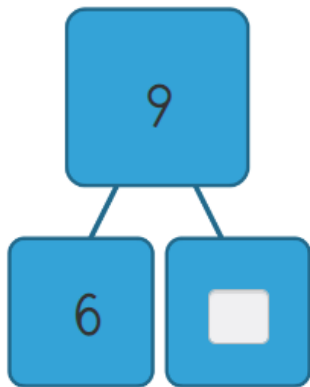
Nombre y apellidos

Fecha

3. ¿Cuántas pelotas más necesitas para tener 4?
Marca con una equis (2 puntos).

 2 4

4. Completa (2 puntos).



5. Completa para tener 10 en cada caso (2 puntos).

3 y

4 y

9 y

2 y