




Prueba

Nombre y apellidos

Fecha

Sumar cantidades. Entender la expresión de la suma. Situaciones con sumas

1. Luisa tiene 5 peces y le regalan 3 más. ¿Cuántos peces tiene en total? (2 puntos).



$$5 + \boxed{3} = \boxed{8}$$

Tiene peces.

Restar con objetos. Entender la expresión de la resta. Situaciones con restas

2. Marco tiene 9 fresas y se come 5. Rodea cuántas fresas le quedan (2 puntos)

$$9 - 5 = \begin{matrix} 3 \\ \textcircled{4} \\ 6 \\ 2 \end{matrix}$$





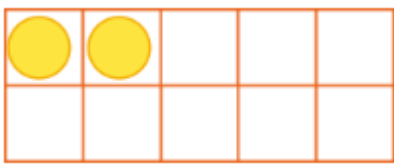
Prueba

Nombre y apellidos

Fecha

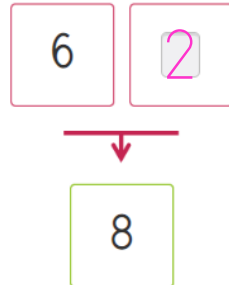
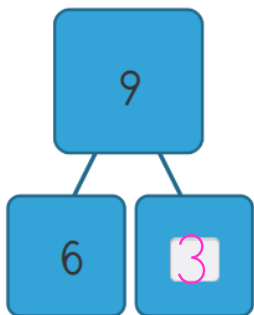
Componer y descomponer números hasta el 5

3. ¿Cuántas pelotas más necesitas para tener 4?
Marca con una equis (2 puntos).



Componer y descomponer números hasta el 9

4. Completa (2 puntos).



Componer y descomponer el 10

5. Completa para tener 10 en cada caso (2 puntos).

3 y

4 y

9 y

2 y