

Prueba trimestral



Nombre y apellidos

Fecha

Ejercicio 1

Tres amigos deciden apuntarse a sus actividades favoritas por las tardes. Observa el calendario de actividades del polideportivo y responde. (2 puntos)

Lunes	Martes	Miércoles	Jueves	Viernes

a) ¿Qué día irá **Juan** al polideportivo si lo que más le gusta es pintar?

b) **Teresa** quiere jugar al tenis. ¿Qué día irá al polideportivo?

c) El hermano de Teresa, **Noé**, va a apuntarse a clases de guitarra. ¿Coincidirá con su hermana algún día?

Prueba trimestral



Nombre y apellidos

Fecha

d) Escribe, debajo del día de la semana, el nombre de cada persona que va al polideportivo.

Lunes	Martes	Miércoles	Jueves	Viernes
				

Ejercicio 2

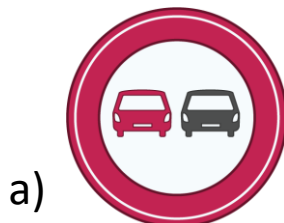
Lee este texto y contesta. (4 puntos)

«Las señales de tráfico con forma de **triángulo** avisan a los conductores de que en esa zona hay que poner mucha **atención**.

Por ejemplo, una señal de «Peligro, zona escolar.»

En cambio, las señales con forma de **círculo** indican que algo está **prohibido** para los conductores. Por ejemplo, «Prohibido ir en bicicleta.»

a) Según el texto, indica qué señal significa «**atención**» y explica por qué lo sabes.



Prueba trimestral




Nombre y apellidos

Fecha

b) Dibuja lo que le falta a esta señal para que signifique:

«Prohibido bicicletas.»



c) Explica con tus palabras esta señal.



NOTA: Piensa en cómo es, su forma, los colores y en qué significa.

Prueba trimestral



Nombre y apellidos

Fecha

Ejercicio 3

Observa el salón de la casa de Juan. (4 puntos)



- a) Completa las oraciones utilizando las palabras dadas. *Ten en cuenta que sobran palabras.*

cerca lejos encima debajo izquierda derecha

- La silla está de Juan, pero el sofá está lejos.
- de la estantería hay una planta.
- La lámpara está al fondo, de la silla y a la del sofá (según lo ve Juan).

Prueba trimestral



Nombre y apellidos

Fecha

b) La madre de Juan no sabe dónde ha dejado su portátil y Juan se acuerda que lo ha visto en el salón.

Escribe qué le debe decir Juan a su madre para que encuentre el ordenador. Te en cuenta que debes utilizar al menos **3** de estas palabras o expresiones.

Lejos

Cerca

Al fondo

A la derecha

A la izquierda

Salón

Al lado

Encima

Debajo

Delante

Detrás

Cuarto de baño

Prueba trimestral



Nombre y apellidos

Fecha

Ejercicio 4

a) Colorea los cuadrados en la gráfica según los datos de las marcas de conteo. (1 punto)



María



Horas de deporte a la semana



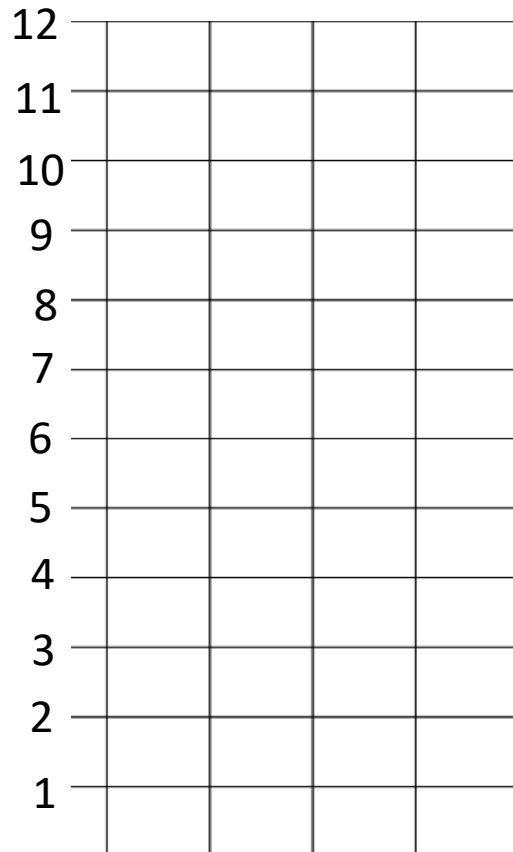
Fran



Susana



Óscar



b) Si los datos representan las horas que hacen deporte a la semana. Escribe una pregunta que puedas contestar con los datos. Contesta a la pregunta. (1 punto)