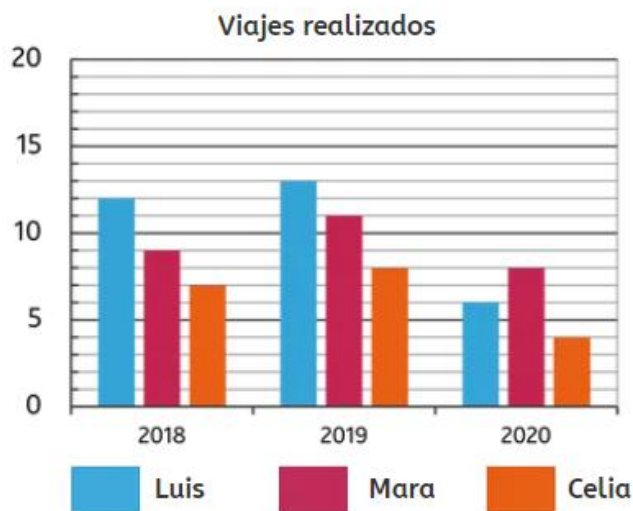


Resumen de la unidad

5º de Primaria. Unidad 8

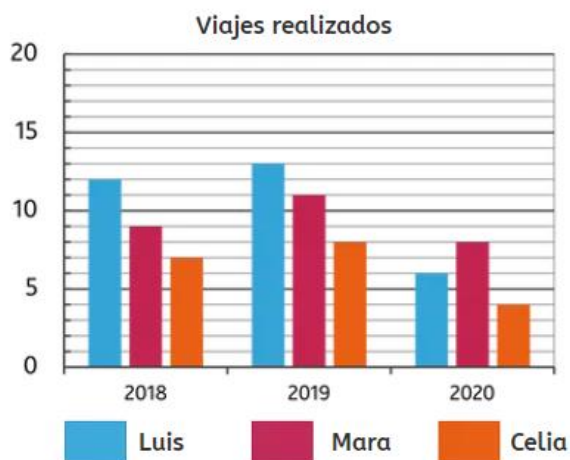
• Gráficos de barras triple



Luis viaja 13 veces en **2019**.

Mara viaja 8 veces en **2020**.

• Cálculos con gráficas



Los datos pueden representarse en **gráficos o tablas**.

	2018	2019	2020
Luis	12	13	6
Mara	9	11	8
Celia	7	8	4

Resumen de la unidad

5º de Primaria. Unidad 8

• Pictogramas



Laura tiene **5 hermanos**.

Marta tiene **2 hermanos**.

Javier tiene **2 hermanos más** que Noelia.



Hay pictogramas cuyas imágenes tienen un valor **superior a 1**.

Miguel ha leído **30 páginas**.

Sara ha leído **15 páginas**.



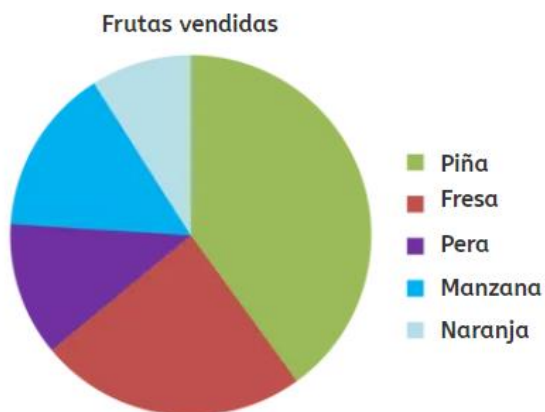
Los datos del **pictograma** pueden representarse en una **tabla**.

Planta 1	20 coches
Planta 2	15 coches
Planta 3	5 coches

Resumen de la unidad

5º de Primaria. Unidad 8

• Gráficos de sectores



La fruta **más vendida** es la piña.

La fruta **menos vendida** es la naranja.

• Gráficos de líneas

Comparamos los ejes **horizontal** (horas) y **vertical** (temperatura) para encontrar

la respuesta correcta.



A las 11:30 la temperatura es **más alta**.

A las 9:00 la temperatura es **más baja**.

• Cálculo de la probabilidad

Para calcular la **probabilidad** de un **suceso** se utiliza la siguiente fórmula:

$$P = \frac{\text{número de casos favorables}}{\text{número de casos posibles}}$$