

# Prueba




Nombre y apellidos

Fecha

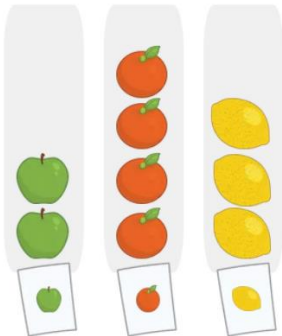
1. ¿Cuántas estrellas hay de cada color? (1 punto)



2. Escribe el número de objetos de cada color (1 punto).



3. Rodea la etiqueta de la fruta de la que hay menos cantidad (1 punto).



4. Observa el gráfico de arriba y completa con la cantidad (1 punto).

Hay  naranjas y  limones.

5. Explica con tus palabras para qué sirven las marcas de conteo (1 punto).

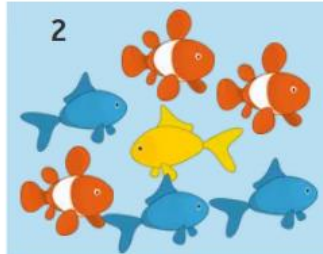

# Prueba



Nombre y apellidos

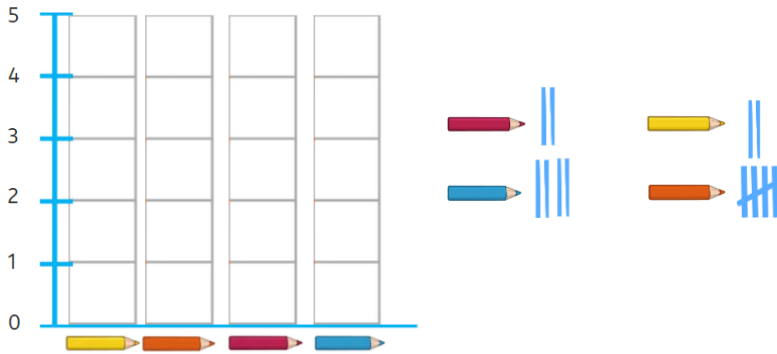
Fecha

6. Completa la tabla con las marcas de conteo (1 punto).



color	pecera 1	pecera 2
naranja		
amarillo		
azul		

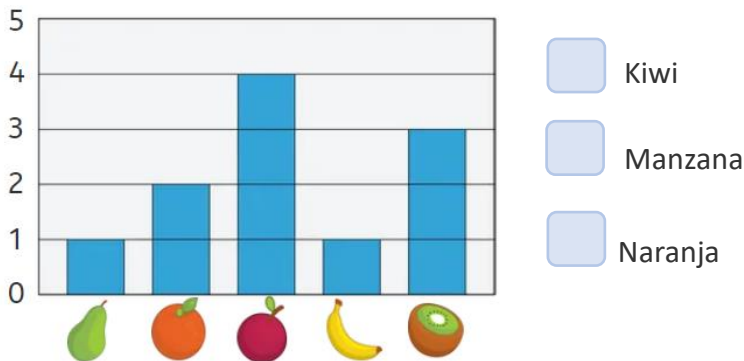
7. Observa las marcas de conteo y completa el gráfico de barras (1 punto).



8. Observa el gráfico anterior. ¿De qué colores hay la misma cantidad de lápices? Marca con una equis (1 punto).

- Amarillo   
  Naranja   
  Rojo   
  Azul

9. Marca con una equis la fruta de la que se han consumido 4 piezas (1 punto).



10. ¿De qué frutas se consumieron menos piezas? (1 punto).

Se consumieron menos piezas de  y .