


U3. LECCIÓN 1. CONTAR HASTA 50

Contamos hasta 50.

1	2	3	4	5	6	7	8	9	10
11	12	13	14	15	16	17	18	19	20
21	22	23	24	25	26	27	28	29	30
31	32	33	34	35	36	37	38	39	40
41	42	43	44	45	46	47	48	49	50



23

Ejercicio 1. Descubre

g

33 34 35

h

45 46 47

i

14 15 16

j

37 38 39 ?

50 41 40

Ejercicio 2. ¡A practicar!

a

41 42 43 ?

14 44 34

b

43 44 45 ?

46 43 47

 Ejercicio 2. ¡A practicar!

c



39 40 ?

43 42 41

d



48 49 ?

50 48 47

e



41 42

f



27 28

g



18 19

h



11 12 13

i



31 32 33

j



35 36

★ Práctica competencial

¿Cuántas cuentas hay hasta el hilo?

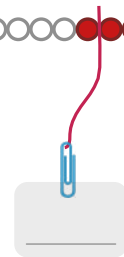


14

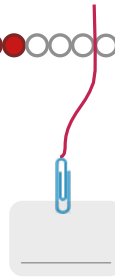
D U
Hay 1 4 cuentas.



D U
Hay _ _ cuentas.



D U
Hay _ _ cuentas.



¿Cuántas cuentas hay en 4 decenas?



4

40

0

¿Cuál es tu manera preferida de contar?



U3. LECCIÓN 2. ESCRIBIR NÚMEROS HASTA 50

Escribimos números hasta 50.

20: veinte; 21: veintuno; 22: veintidós;
30: treinta; 31: treinta y uno; 32: treinta y dos
40: cuarenta; 41: cuarenta y uno; 42: cuarenta y dos;
43: cuarenta y tres; 44: cuarenta y cuatro;
50: cincuenta.

Ejercicio 1. Descubre

f

treinta y tres 40
cuarenta 22
cuarenta y dos 33
veintidós 42

g

34 4 decenas
16 treinta y cuatro
3 D y 4 U 3 D y 6 U

h

26

seis
 dieciséis
 veintiséis

i

treinta y ocho

38

Ejercicio 2. ¡A practicar!

a

47 2 D y 4 U
42 cuarenta y dos
4 D y 2 U cuarenta

b

26 6 decenas
16 veintiséis
veinte 2 D y 6 U

Ejercicio 2. ¡A practicar!

c



treinta • • 26
cuarenta y tres • • 30
veintiséis • • 43

d



quince • • 15
treinta y cinco • • 21
veintuno • • 35

e

22



- doce
- treinta y dos
- veintidós

f

49



- veintinueve
- cuarenta y nueve
- diecinueve

g

28



veintiocho

h

17



i



cuarenta y uno

j



treinta y nueve

★ Práctica competencial

Escribe como se leen estos precios:



37 €



Treinta y siete euros.

Cuarenta y seis euros.

46 €



25 €



44 €



16 €



El precio de la camiseta es _____ €.

¿Qué número te ha costado más escribir en esta lección?



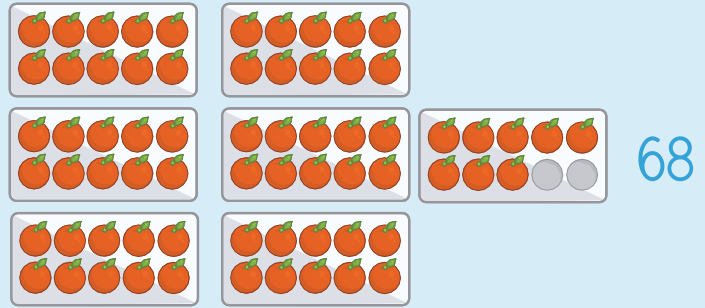
¿Te gusta elegir tu ropa? ¿Por qué?



U3. LECCIÓN 3. CONTAR HASTA 100

Contamos hasta 100.

51	52	53	54	55	56	57	58	59	60
61	62	63	64	65	66	67	68	69	70
71	72	73	74	75	76	77	78	79	80
81	82	83	84	85	86	87	88	89	90
91	92	93	94	95	96	97	98	99	100



Ejercicio 1. Descubre

g

64	65	66		
----	----	----	--	--

h

66	67	68		
----	----	----	--	--

i

74	75	76		
----	----	----	--	--

j

87	88	89	?
<input type="checkbox"/>	<input type="checkbox"/>	<input checked="" type="checkbox"/>	
80	81	90	

Ejercicio 2. ¡A practicar!

a

91	92	93	?
<input type="checkbox"/>	<input type="checkbox"/>	<input type="checkbox"/>	
49	94	90	

b

53	54	55	?
<input type="checkbox"/>	<input type="checkbox"/>	<input type="checkbox"/>	
56	57	58	

 Ejercicio 2. ¡A practicar!

c



46	47	48	_____	_____
----	----	----	-------	-------

d



65	66	67	_____	_____
----	----	----	-------	-------

e



87	88	89	_____	_____
----	----	----	-------	-------

f



59	60	_____
----	----	-------

g



76	77	_____
----	----	-------

h



74	75	_____	_____	_____
----	----	-------	-------	-------

i



67	68	_____	_____	_____
----	----	-------	-------	-------

j



85	86	_____	_____	_____
----	----	-------	-------	-------

★ Práctica competencial

¿Cuántos números hay en el sorteo?



1	2	3	4	5	6	7	8	9	10
11	12	13	14	15	16	17	18	19	20
21	22	23	24	25	26	27	28	29	30
31	32	33	34	35	36	37	38	39	40
41	42	43	44	45	46	47	48	49	50
51	52	53	54	55	56	57	58	59	60
61	62	63	64	65	66	67	68	69	70
71	72	73	74	75	76	77	78	79	80
81	82	83	84	85	86	87	88	89	90
91	92	93	94	95	96	97	98	99	100

Hay 100 números.

Colorea los números que han sido premiados.



1	2	3	4	5	6	7	8	9	10
11	12	13	14	15	16	17	18	19	20
21	22	23	24	25	26	27	28	29	30
31	32	33	34	35	36	37	38	39	40
41	42	43	44	45	46	47	48	49	50
51	52	53	54	55	56	57	58	59	60
61	62	63	64	65	66	67	68	69	70
71	72	73	74	75	76	77	78	79	80
81	82	83	84	85	86	87	88	89	90
91	92	93	94	95	96	97	98	99	100



¿Te ha resultado difícil esta lección? ¿Por qué?



.....
.....
.....
.....
.....

¿Cuál es tu número de pie?




Mi número de pie es el .

U3. LECCIÓN 4. ESCRIBIR NÚMEROS HASTA 100

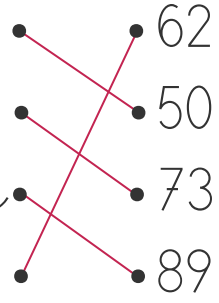
Escribimos números hasta 100.


50: cincuenta; 51: cincuenta y uno; 58: cincuenta y ocho;
60: sesenta; 64: sesenta y cuatro; 67: sesenta y siete;
70: setenta; 73: setenta y tres; 79: setenta y nueve;
80: ochenta; 82: ochenta y dos; 86: ochenta y seis;
90: noventa; 95: noventa y cinco; 100: cien

Ejercicio 1. Descubre


e 

cincuenta 62
setenta y tres 50
ochenta y nueve 73
sesenta y dos 89



f 

96 7 decenas
16 noventa y seis
noventa 9 D y 6 U

g seis 

62 veintiséis


sesenta y dos

h 


sesenta y ocho

68

Ejercicio 2. ¡A practicar!

a 

17 7 D y 3 U
87 treinta
8 D y 7 U ochenta y siete

b 

56 5 decenas
16 cincuenta y seis
cincuenta 5 D y 6 U

Ejercicio 2. ¡A practicar!

c



noventa • • 82

ochenta y dos • • 60

sesenta • • 90

d



sesenta y nueve • • 72

cuarenta y uno • • 69

setenta y dos • • 41

e

63



sesenta y tres

trece

treinta y seis

f

59



cinco

cuarenta y nueve

cincuenta y nueve

g



82

Ochenta y dos

h



71

i



sesenta y uno

j




noventa y nueve

★ Práctica competencial

Escribe como se leen los ahorros de Luis. 

Tengo 73 €.

Luis tiene setenta y tres euros.



Escribe como se leen los ahorros de Cristina. 

Tengo 96 €.

Cristina tiene

_____ euros.



Escribe como se leen los ahorros de Pablo. 



Tengo _____ €.

Pablo tiene _____
_____ euros.



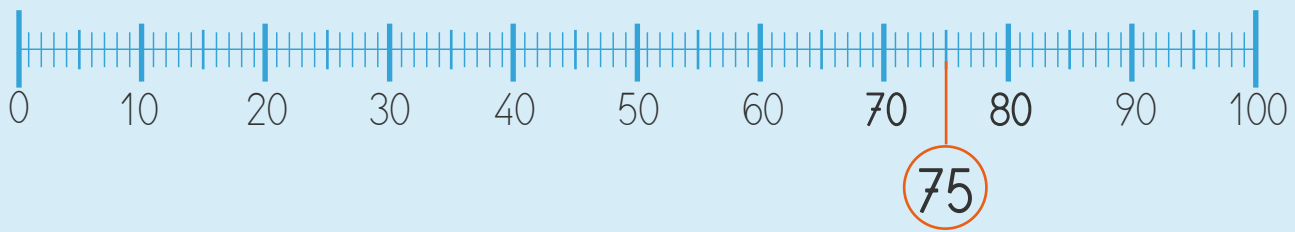
¿Qué es lo que menos te ha gustado de la lección? 

¿Cuántos euros tienes ahorrados? 

Tengo _____ € ahorrados.


U3. LECCIÓN 5. LA RECTA NUMÉRICA

Localizamos números en la recta numérica.




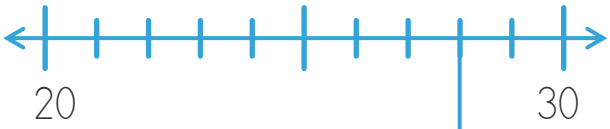

75 está entre 70 y 80 en la recta numérica.

Ejercicio 1. Descubre

e  **a**

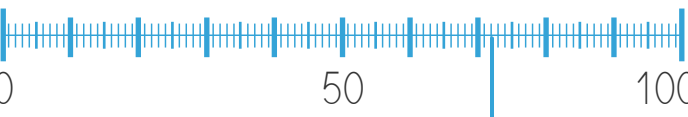

17 centímetros



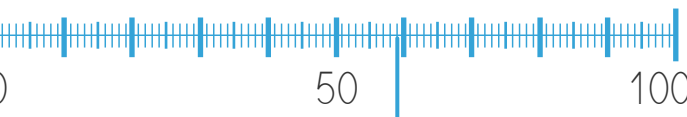

f  

20 30

28



g  

0 50 100



h  

0 50 100

Ejercicio 2. ¡A practicar!

a  

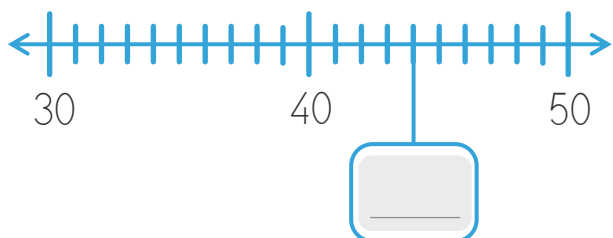
10 20

b  

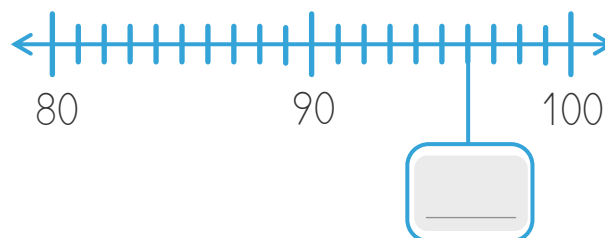
50 60

Ejercicio 2. ¡A practicar!

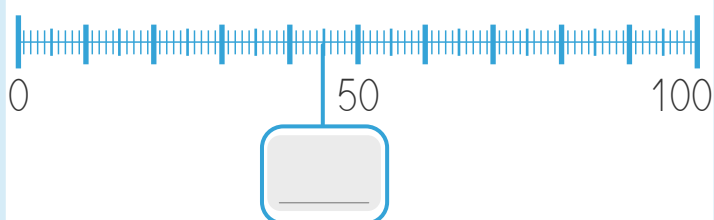
c



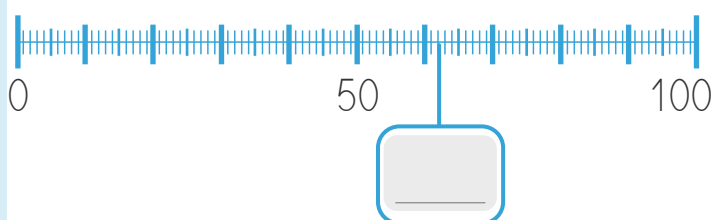
d



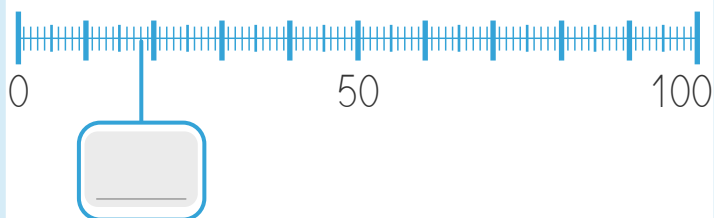
e



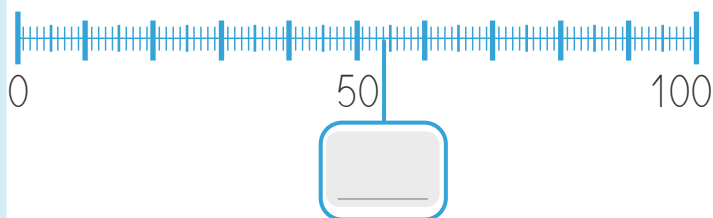
f



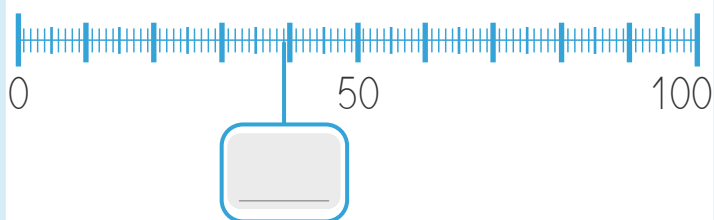
g



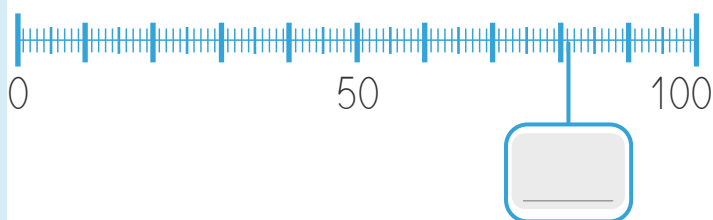
h



i

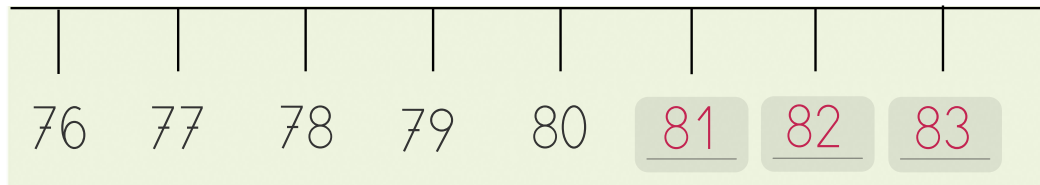


j

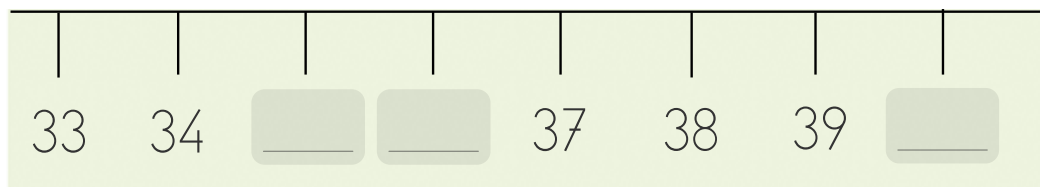


★ Práctica competencial

¿Qué números se han borrado en la cinta métrica?



¿Qué números se han borrado en la cinta métrica?



¿Cómo medirías estas líneas?



Mide cada línea y escribe lo que miden.