

Prova



Nom i cognoms:

Data:

1. Observa la imatge i inventa un esdeveniment que sigui segur (1 punt).



2. Indica si són veritables o falses aquestes afirmacions (1 punt).



És segur que tregui una bola vermella.


És impossible que tregui bola verda.

És possible que tregui bola blava.

És segur que tregui una bola negra.

3. Observa el pictograma i completa la taula de freqüències (1 punt).

Nombre de cries de balena



Juny	25
Juliol	
Agost	
Setembre	

4. Quantes balenes hauries de dibuixar a l'octubre si es van comptar 5 cries de balena? (1 punt)

1

2

3

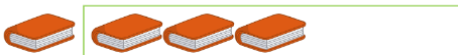
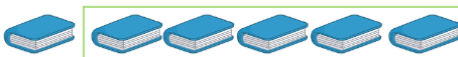
5. Indica amb marques de recompte, el nombre de llibres de cada color (1 punt).



Rosa

Blau

Taronja



Prova



Nom i cognoms:

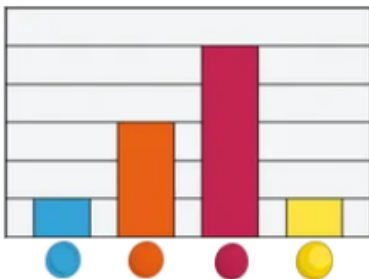
Data:

6. Elabora un gràfic de barres amb les dades d'aquesta taula (1 punt):

Color	Vermell	Verd	Blau	Marró
Quantitat	4	5	3	6

7. Observa el gràfic de l'activitat 6 i escriu amb les teves paraules com pots saber de quin color n'hi ha més (1 punt).

8. Observa el gràfic i indica de quins colors n'hi ha la mateixa quantitat (1 punt).



- De color rosa i taronja
- De color groc i blau
- De color blau i taronja

9. Observa el gràfic. Inventa 2 preguntes que puguis respondre a partir del gràfic i escriu-ne la resposta (2 punts).

