

Prova




Nom i cognoms

Data

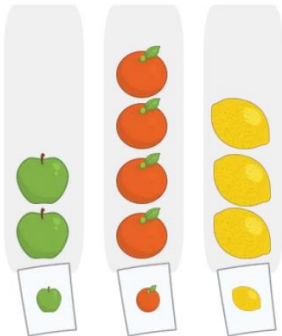
1. Quantes estrelles de cada color hi ha? (1 punt)



2. Escriu el nombre d'objectes de cada color (1 punt).



3. Encercla l'etiqueta de la fruita de la qual n'hi ha menys quantitat (1 punt).



4. Observa el gràfic i completa amb la quantitat (1 punt).

Hi ha taronges i llimones.

5. Explica amb les teves paraules per a què serveixen les marques de recompte (1 punt).

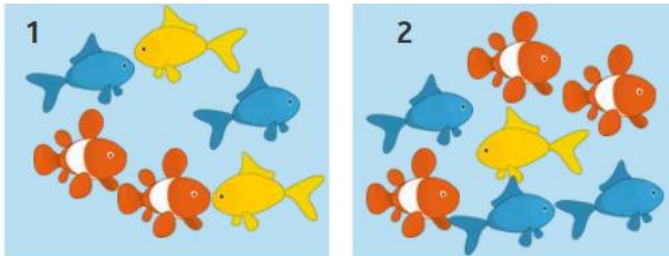
Prova



Nom i cognoms

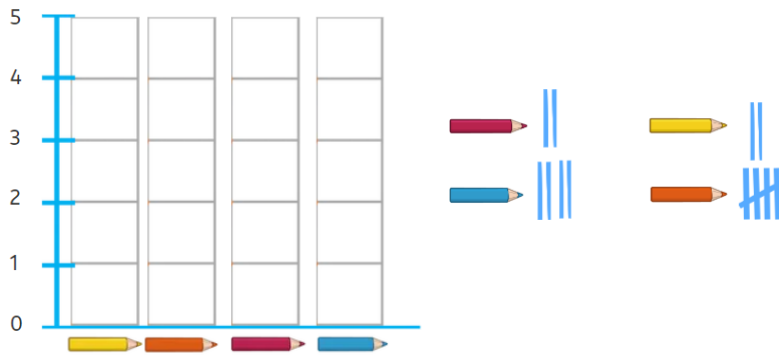
Data

6. Completa la taula amb les marques de recompte (1 punt).



Color	Peixera 1	Peixera 2
Taronja		
Groc		
Blau		

7. Observa les marques de recompte i completa el gràfic de barres (1 punt).



8. Observa el gràfic anterior. De quins colors hi ha la mateixa quantitat de llapis? Marca-ho amb una creu (1 punt).

- Groc
 Taronja
 Vermell
 Blau

9. Quantes papallones ha comptat la Coia? Completa (1 punt).

Nombre de papallones comptades.	
Naia	
Zineb	
Coia	
= 2 papallones	

La Coia ha comptat papallones.

10. Quantes papallones van comptar entre totes tres? Marca-ho amb una creu (1 punt).

- 16
 18
 9
 8