

Prova



Nom i cognoms


Data

Comptar grups d'objectes

1. Quantes estrelles de cada color hi ha? (1 punt)




2. Escriu el nombre d'objectes de cada color (1 punt).



Mostrar grups d'objectes

3. Encercla l'etiqueta de la fruita de la qual n'hi ha menys quantitat (1 punt).



4. Observa el gràfic i completa amb la quantitat (1 punt).

Hi ha taronges i llimones.

Taules de recompte

5. Explica amb les teves paraules per a què serveixen les marques de recompte (1 punt).

Les marques de recompte serveixen per anotar en una taula el nombre

d'objectes que hi ha de cada tipus.

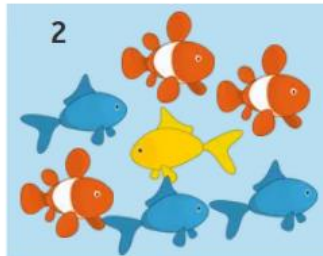

Prova



Nom i cognoms

Data

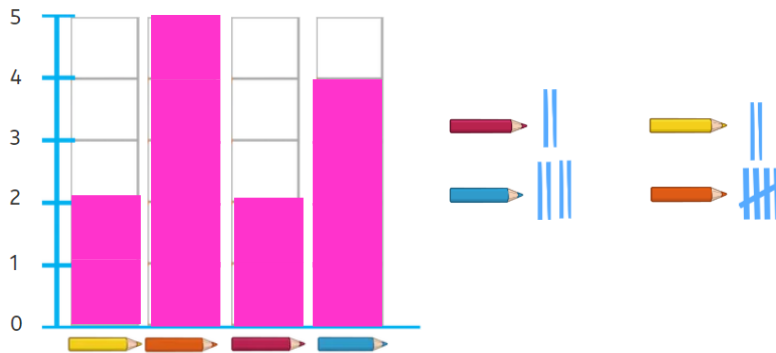
6. Completa la taula amb les marques de recompte (1 punt).



Color	Peixera 1	Peixera 2
Taronja		
Groc		
Blau		

Concepte de gràfic de barres

7. Observa les marques de recompte i completa el gràfic de barres (1 punt).



8. Observa el gràfic anterior. De quins colors hi ha la mateixa quantitat de llapis? Marca-ho amb una creu (1 punt).

Groc Taronja Vermell Blau

Interpretar pictogrames

9. Quantes papallones ha comptat la Coia? Completa (1 punt).

Nombre de papallones comptades.	
Naia	
Zineb	
Coia	
= 2 papallones	

La Coia ha comptat papallones.

10. Quantes papallones van comptar entre totes tres? Marca-ho amb una creu (1 punt).

16 18 9 8