






Prova

Nom i cognoms

Data

1. Quants n'hi ha? Dibuixa els comptadors i marca amb una creu la mà correcta (2 punts).





 2  3

2. Encercla la mà que té zero dits aixecats (2 punts).



3. Dibuixa la mateixa quantitat (2 punts).



Prova



Nom i cognoms

Data

4. Dibuixa la quantitat de boles indicada i subratlla la paraula correcta (2 punts).

6



9

menys
més
igual

5. Escriu com es llegeix la quantitat de marietes en cada cas (2 punts).



