



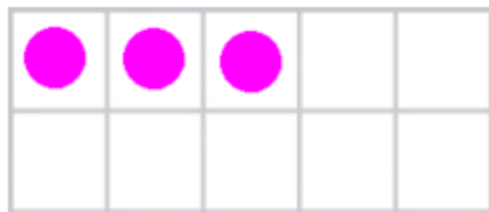

# Prova

Nom i cognoms

Data

Comptar fins a 5. Comptar fins a 5 amb dits i objectes.

1. Quants n'hi ha? Dibuixa els comptadors i marca amb una creu la mà correcta (2 punts).



2



3


Entendre el zero

2. Encercla la mà que té zero dits aixecats (2 punts).



Més, menys i igual

3. Dibuixa la mateixa quantitat (2 punts).



# Prova




Nom i cognoms

Data

## Comparar nombres fins al 5


4. Dibuixa la quantitat de boles indicada i subratlla la paraula correcta (2 punts).

6



menys  
més  
igual

9



## Escriure el 0, l'1 i el 2. Escriure el 3, el 4 i el 5

5. Escriu com es llegeix la quantitat de marietes en cada cas (2 punts).

