

Prova



Nom i cognoms:

Data:

1. Completa la descomposició de 4.567 (1 punt).

UM	C	D	U
<input type="text"/>	<input type="text"/>	<input type="text"/>	<input type="text"/>

$$4.567 = \boxed{} + \boxed{} + \boxed{} + \boxed{}$$

2. Marca amb una creu (x) el nombre de quatre que té un 7 a les unitats de miler, un 5 a les centenes, un 6 a les desenes i un 9 a les unitats (1 punt).

9.756

5.769

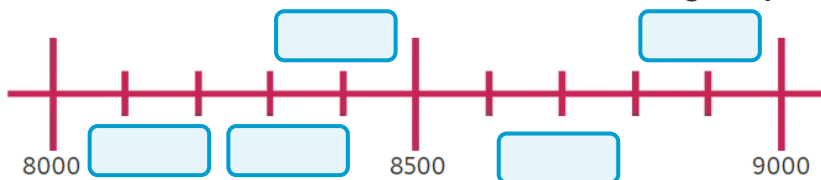
7.569

3. Escriu com es llegeixen aquests nombres (1 punt):

2.659

6.246

4. Escriu 8.672 a la marca de la recta on creguis que se situa (1 punt).



5. Ordena aquests nombres del més petit al més gran (1 punt).

6254

6135

6167

5997

4292

5108

Prova



Nom i cognoms:

Data:




















6. Arrodoneix els nombres com s'indica (1 punt).

A la unitat de miler 7.299

A la centena més propera 2.659

7. Escribe i representa un nombre parell i un nombre senar (1 punt).

8. Quantes papallones hi ha en total? Completa els requadres blaus (1 punt).

					<input type="text"/>
					<input type="text"/>
					<input type="text"/>
					
<input type="text"/>	<input type="text"/>	<input type="text"/>	<input type="text"/>		

En total hi ha papallones.

9. Quants llibres hi ha? (1 punt).

		<input type="text"/>	<input type="text"/>	<input type="text"/>
---	---	----------------------	----------------------	----------------------

10. Representa amb un dibuix la suma de 4 bosses amb 3 boles a cada una (1 punt).