

# Prova



Nom i cognoms:

Data:

## Comptar fins a 1.000

1. Completa les sèries comptant d'un en un (1 punt).

693	694	695	696
745	746	747	748

## Comptar enrere fins a 1.000

2. Marca amb una creu els nombres que segueixen el 247 comptant cap enrere (1 punt).

248, 249, 250     246, 247, 248     246, 245, 244

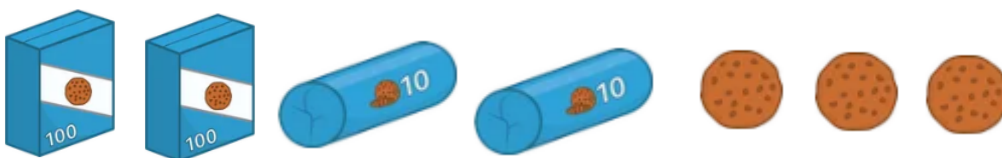
## Comptar passant per una centena

3. Continua la sèrie comptant d'1 en 1 (1 punt).



## Comptar elements fins a 1.000 agrupant

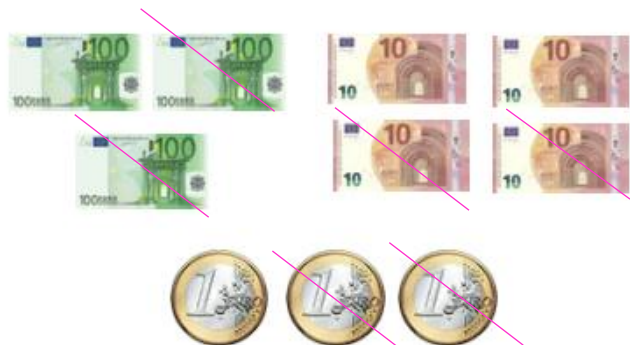
4. Quantes galetes hi ha en total? (1 punt).



Hi ha **223** galetes en total.

## Comptar fins a 1.000 amb salts de 10

5. Ratlla les monedes i els bitllets necessaris perquè en quedin 121 € (1 punt).



# Prova



Nom i cognoms:

Data:

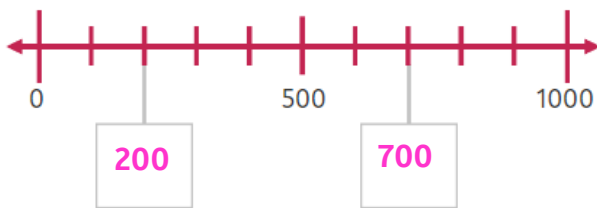
## Comptar fins a 1.000 amb salts de 5

6. Inventa i escriu una sèrie en la qual comptis de 5 en 5 (1 punt).

Resposta lliure.

## Comptar amb centenes

7. Completa els nombres que falten a la recta (1 punt).



## Comparar 2 nombres fins al 1.000

8. Completa els parells de nombres amb els símbols  $>$ ,  $<$  o  $=$  (1 punt).

134  $<$  143      625  $>$  619      322  $<$  511

## Ordenar nombres fins al 1.000

9. Ordena aquests nombres del més petit al més gran (1 punt).

625      613      616      599      429      510

429

510

599

613

616

625

10. Inventa 2 sèries de 6 nombres cada una, i ordena-les de més gran a més petit utilitzant els símbols corresponents (1 punt).

Resposta lliure.