

Prova

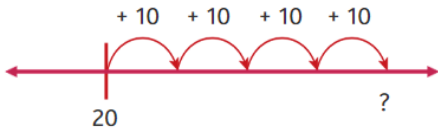


Nom i cognoms:

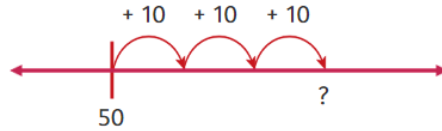
Data:

Sumar i restar amb desenes

1. Completa les operacions que es representen a cada recta (1 punt).



$20 + 40 = 60$



$50 + 30 = 80$

Sumar i restar fins al 100 amb recorreguts en una taula

2. Calcula les operacions següents i marca el recorregut que segueixes a la taula (1 punt).

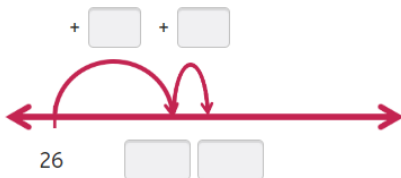
$11 + 13 = 24$

$46 - 15 = 31$

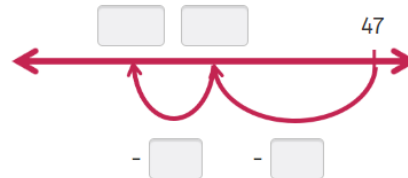
1	2	3	4	5	6	7	8	9	10
11	12	13	14	15	16	17	18	19	20
21	22	23	24	25	26	27	28	29	30
31	32	33	34	35	36	37	38	39	40
41	42	43	44	45	46	47	48	49	50

Sumar i restar per damunt de la desena fins al 100 amb la recta numèrica

3. Completa les rectes i calcula les operacions (1 punt).



$26 + 8 = 34$



$47 - 9 = 38$

Sumar i restar per damunt de la desena fins al 100

4. Calcula aquestes operacions (1 punt).

$38 - 9 = 29$

$25 + 7 = 32$

$94 - 8 = 86$

$39 + 6 = 45$

Sumar fins al 100 sense portar-ne. Restar fins al 100 sense portar-ne

5. Calcula les sumes i les restes sense portar-ne (1 punt).

$$\begin{array}{r} 57 \\ + 22 \\ \hline 79 \end{array}$$

$$\begin{array}{r} 77 \\ - 64 \\ \hline 13 \end{array}$$

$$\begin{array}{r} 34 \\ + 65 \\ \hline 99 \end{array}$$

$$\begin{array}{r} 59 \\ - 38 \\ \hline 21 \end{array}$$

Prova



Nom i cognoms:

Data:

Sumar tres nombres sense portar-ne

6. L'Íria ha passejat 12 minuts al matí, 23 a la tarda i 34 abans de sopar. Quants minuts ha passejat en total? (1 punt).



Ha passejat **69** minuts.

Sumar fins al 100 portant-ne

7. En Marc ha vist la tele 25 minuts aquest matí i 25 abans d'anar a dormir. Quants minuts ha estat veient la tele? (1 punt).

Ha vist la tele durant **50** minuts.



Restar portant-ne al minuend

8. Calcula aquestes operacions (1 punt).

$70 - 36 = 34$

$82 - 25 = 57$

Restar fins al 100 portant-ne al minuend

9. L'Eduard està llegint un còmic de 74 pàgines. Si ja se n'ha llegit 27, quantes pàgines li queden per llegir? (1 punt)



Li queden **47** pàgines.

Restar fins a 100 completant

10. La Carla té 38 enganxines i la seva germana Aitana **76**. Quantes enganxines més té l'Aitana que la Carla? (1 punt)

$38 + \square = 76$

L'Aitana té **38** enganxines més que la Carla.

