




Prova

Nom i cognoms

Data

1. La Laia té 5 peixos i li regalen 3 peixos més. Quants peixos té en total? (2 punts).



$$5 + \square = \square$$

Té peixos.

2. En Marc té 9 maduixes i se'n menja 5. Encercla quantes maduixes li queden (2 punts).

$$9 - 5 =$$

3
4
6
2



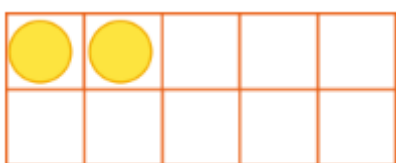


Prova

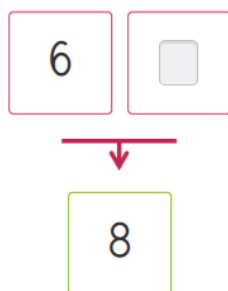
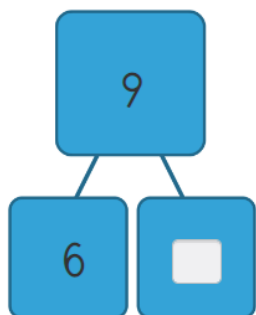
Nom i cognoms

Data

3. Quantes pilotes més necessites per tenir-ne 4?
Marca amb una creu (2 punts).

 2 4

4. Completa (2 punts).



5. Completa per tenir-ne 10 en cada cas
(2 punts).

3 i

4 i

9 i

2 i