




Prova

Nom i cognoms

Data

Sumar quantitats. Entendre l'expressió de la suma. Situacions amb sumes

1. La Laia té 5 peixos i li regalen 3 peixos més. Quants peixos té en total? (2 punts).



$$5 + \boxed{3} = \boxed{8}$$

Té peixos.

Restar amb objectes. Entendre l'expressió de la resta. Situacions amb restes

2. En Marc té 9 maduixes i se'n menja 5. Encercla quantes maduixes li queden (2 punts).

$$9 - 5 = \begin{matrix} 3 \\ \textcircled{4} \\ 6 \\ 2 \end{matrix}$$






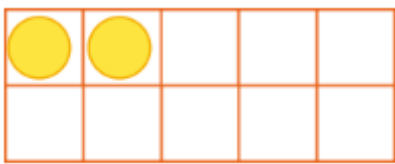
Prova

Nom i cognoms

Data

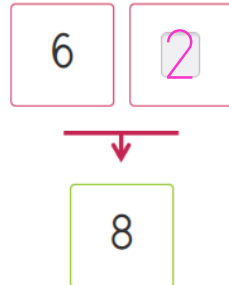
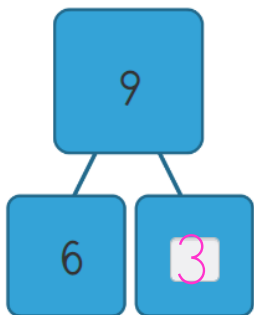
Compondre i descompondre nombres fins al 5

3. Quantes pilotes més necessites per tenir-ne 4?
Marca amb una creu (2 punts).



Compondre i descompondre nombres fins al 9

4. Completa (2 punts).



Compondre i descompondre el 10

5. Completa per tenir-ne 10 en cada cas
(2 punts).

3 i

4 i

9 i

2 i