

Prova



Nom i cognoms:

Data:

El calendari

1. Escriu quins dies de la setmana són el 25 de juny i el 23 de gener (1 punt).

25 de juny

Resposta lliure.

23 de gener

Resposta lliure.

Hores cada 15 minuts

2. Indica l'hora que marquen aquests rellotges (1 punt).



Dos quarts de dotze



Les tres en punt



Un quart de sis



Tres quarts de tres

Quarts d'hora en rellotge digital

3. Dibuixa un rellotge digital i un d'analògic que marquin un quart de vuit del vespre (1 punt).

19 : 15



4. És un quart de nou del matí. Si la Naia entra a l'escola a les nou en punt, quants minuts queden perquè hi entri? (1 punt)

Queden minuts perquè la Naia entri a l'escola.

Les hores del dia

5. Marca amb una creu l'hora correcta en cada cas (1 punt).

M'he rentat les dents perquè acabo d'esmorzar.

08 : 30

21 : 30

11 : 15

Me'n vaig a dormir perquè demà he d'anar a l'escola.

16 : 30

10 : 30

21 : 15

Prova



Nom i cognoms:

Data:


Hores cada 5 minuts en rellotge analògic

6. Encercla el rellotge que marca dos quarts menys cinc d'una (1 punt).




Hores cada 5 minuts en rellotge digital

7. Escriu l'hora que s'indica en cada rellotge (1 punt).



Un quart i cinc de quatre de la tarda.



Dos quarts i cinc de set del matí.

Els cèntims

8. Indica quants diners hi ha en cada grup (1 punt).




Hi ha 70 ct .



Hi ha 87 ct .

Imports menors d'1 euro

9. Dibuixa 37 cèntims utilitzant la menor quantitat de monedes possible (1 punt).



10. Enumera 4 coses que puguis comprar amb menys d'1 € (1 punt).

Resposta lliure.