

# Prova




Nom i cognoms:

Data:

## Itineraris

1. Inventa un itinerari perquè el pingüí arribi a l'iceberg (1 punt).



Resposta lliure.

## Característiques (costats, vèrtexs, tipus de línia) en figures planes

2. Marca amb una creu les restes que tenen 4 cantonades (1 punt).



## Línies en figures planes

3. Dibuixa una forma tancada amb 6 cantonades (1 punt).

Resposta lliure.

## Noms de figures planes

4. Escriu el nom d'aquestes figures (1 punt).



Pentàgon



Hexàgon



Rombe

5. Escriu el nom de 2 figures que tinguin 4 costats i 4 cantonades (1 punt).

Quadrat i rectangle

# Prova



Nom i cognoms:

Data:

## Conèixer propietats del cercle i de la circumferència

6. Encercla els cercles (1 punt).




## Compondre i descompondre figures planes entre elles

7. Dibuixa un trapezi i descompon-lo en triangles (1 punt).

Resposta lliure.

## Completar mosaics


8. De quines figures es compon aquest mosaic? (1 punt).



Es compon de **quadrats i rectangles**.

## Completar un tangram

9. Dibuixa les peces del tangram i construeix una casa (1 punt).



Resposta lliure.

## Diferències entre els cossos geomètrics

10. Encercla les figures que poden rodar (1 punt).

