

Prova




Nom i cognoms:

Data:

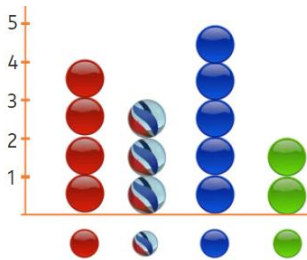
1. Completa les marques de recompte en aquesta taula (1 punt).

Colors favorits	Conteo	Total
Blau 		9
Taronja 		5
Vermell 		7

2. Completa el gràfic de barres (1 punt).







3. Quantes boles blaves més que verdes hi ha? (1 punt).



Hi ha boles blaves més.

4. Dibuixa el gràfic que acompanya aquesta taula (2 punts).

color				
nombre	3	2	6	5

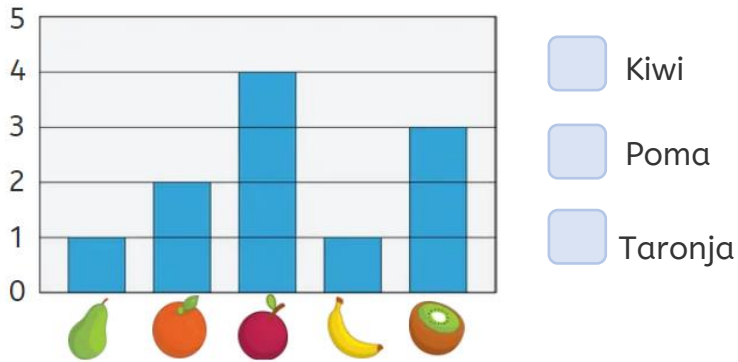
Prova



Nom i cognoms:

Data:

5. Marca amb una creu la fruita de la qual s'han consumit 4 peces (1 punt).



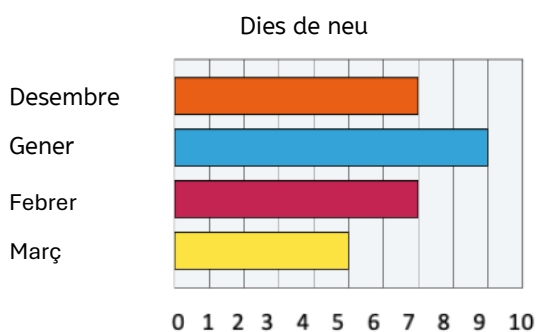
6. Quantes pomes i peres s'han menjat en total? (1 punt).

En total s'han menjat pomes i peres.

7. De quines fruites s'han consumit menys peces? Encercla-les (1 punt).

pomes i peres plàtans i kiwis peres i plàtans

8. Quants dies en total va nevar al desembre i al gener? (1 punt).



Va nevar dies al desembre i al gener.

9. Recull en una taula les dades del gràfic anterior (2 punts).

--	--	--	--	--	--	--	--	--	--	--