

# Prova



Nom i cognoms:

Data:


## Completar una taula amb marques de recompte

1. Completa les marques de recompte en aquesta taula (1 punt).

Colors favorits	Conteo	Total
Blau 		9
Taronja 		5
Vermell 		7

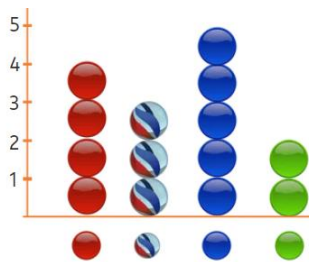
## Introducció als gràfics de barres

2. Completa el gràfic de barres (1 punt).



## Gràfics





3. Quantes boles blaves més que verdes hi ha? (1 punt).

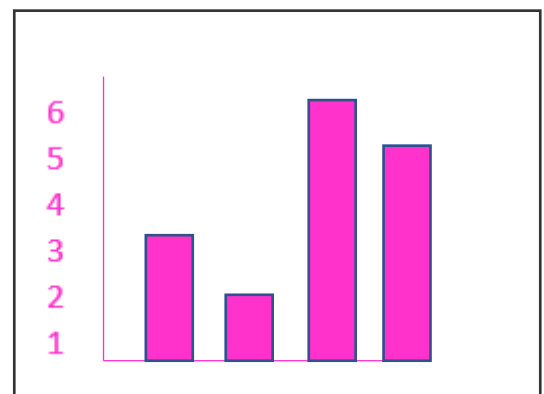


Hi ha  boles blaves més.

## Gràfic de barres a partir d'una taula

4. Dibuixa el gràfic que acompanyava aquesta taula (2 punts).

color				
nombre	3	2	6	5



# Prova

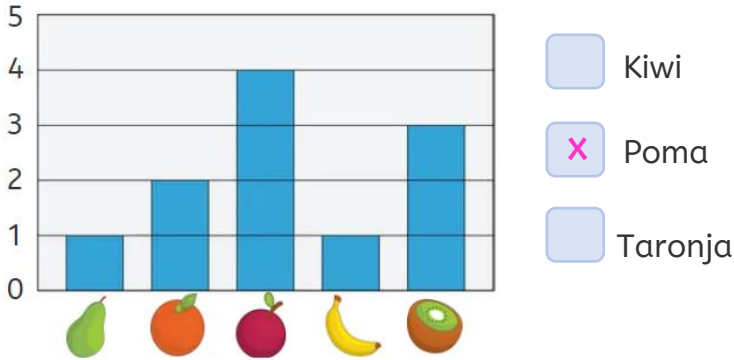


Nom i cognoms:

Data:

## Interpretar gràfics de barres senzills

5. Marca amb una creu la fruita de la qual s'han consumit 4 peces (1 punt).



6. Quantes pomes i peres s'han menjat en total? (1 punt).

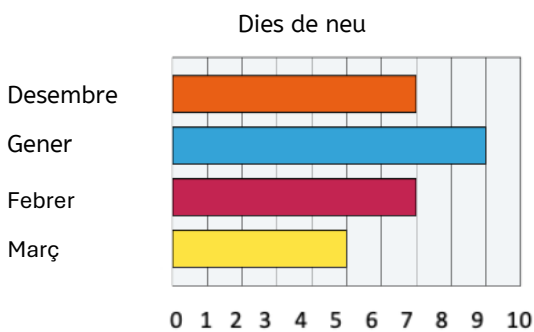
En total s'han menjat **5** pomes i peres.

7. De quines fruites s'han consumit menys peces? Encercla-les (1 punt).

pomes i peres      plàtans i kiwis      **peres i plàtans**

## Fer càlculs a partir de gràfics o taules senzilles

8. Quants dies en total va nevar al desembre i al gener? (1 punt).



Va nevar **16** dies al desembre i al gener.

9. Recull en una taula les dades del gràfic anterior (2 punts).

	Desembre	Gener	Febrer	Març
Dies de neu	7	9	7	5