

Prova

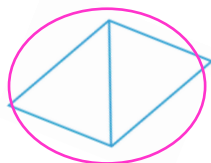



Nom i cognoms:

Data:

Distingir parts iguals en figures

1. Encercla les figures que estan dividides en parts iguals (1,25 punts).



2. Dibuixa una figura i dividix-la en 5 parts iguals (1,25 punts).

Resposta lliure.

3. Carles ha fet pizza per als seus 5 amics. Si tots volen menjar-ne la mateixa quantitat, com ha de partir la pizza Carles? Marca-la amb una creu (1,25 punts).



Dividir una barra o un cercle en parts iguals

4. Dividix el rectangle en 4 parts iguals (1,25 punts).

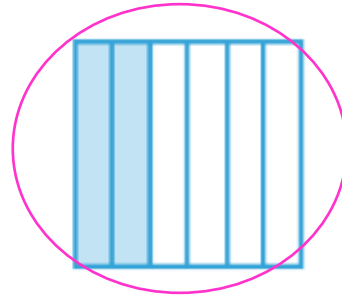
Prova




Nom i cognoms:

Data:

5. Encercla la figura que està dividida en 6 parts iguals (1,25 punts).



6. Col·loca els cercles que estan dividits en parts iguals (1,25 punts).



Dividir figures en mitats o quarts

7. Què representa cada una de les parts d'este cercle? (1,25 punts).



Representa $\frac{1}{4}$ de la figura.

8. Marca amb una creu les figures que no estan dividides en mitats o quarts (1,25 punts).

