

Prova



Nom i cognoms:

Data:


1. Encercla les figures que estan dividides en parts iguals (1,25 punts).




2. Dibuixa una figura i dividix-la en 5 parts iguals (1,25 punts).



3. Carles ha fet pizza per als seus 5 amics. Si tots volen menjar-ne la mateixa quantitat, com ha de partir la pizza Carles? Marca-la amb una creu (1,25 punts).



4. Dividix el rectangle en 4 parts iguals (1,25 punts).



Prova



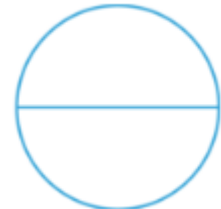
Nom i cognoms:

Data:

5. Encercla la figura que està dividida en 6 parts iguals (1,25 punts).



6. Col·loca els cercles que estan dividits en parts iguals (1,25 punts).



7. Què representa cada una de les parts d'este cercle? (1,25 punts).



Representa  de la figura.

8. Marca amb una creu les figures que no estan dividides en mitats o quarts (1,25 punts).

