

Prova



Nom i cognoms:

Data:

Representar fraccions senzilles

1. Escribe la fracció que representa cada dibuix (1 punt).



$\frac{1}{5}$

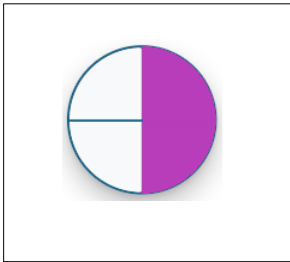


$\frac{1}{4}$



$\frac{1}{4}$

2. Dibuixa dos quarts d'una pizza (1 punt).



3. Observa la fracció i completa (1 punt).



Hi ha parts iguals.

La part ombrejada és $\frac{\text{input } 1}{\text{input } 8}$

Comparar fraccions amb numerador 1

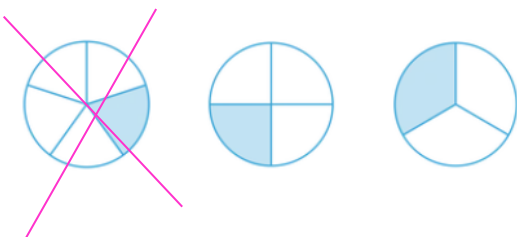
4. Encercla la fracció més xicoteta (1 punt).

$\frac{1}{2}$

$\frac{1}{6}$

$\frac{1}{4}$

5. Ratlla la fracció més xicoteta (1 punt).



Prova



Nom i cognoms:

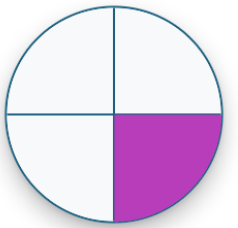
Data:

Donar significat a fraccions

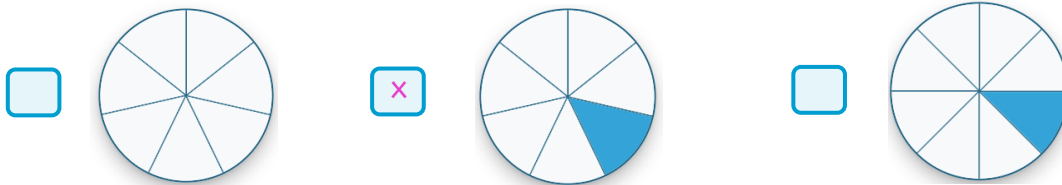
6. Marta dividix una pizza en parts iguals per a compartir-la amb els seus 4 amics. Quina pizza és la de Marta? Encercla-la (1 punt).



7. Ha quedat un quart del pastís. Pinta'l (1 punt).

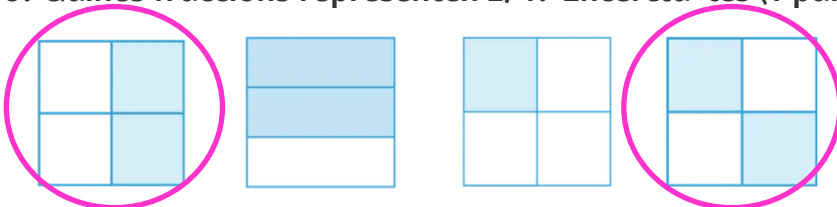


8. Marca amb una creu la fracció que representa $1/7$ (1 punt).



Representar fraccions

9. Quines fraccions representen $2/4$? Encercla-les (1 punt).



10. Dibuixa una fracció que represente $4/6$ (1 punt).

