

# Prova

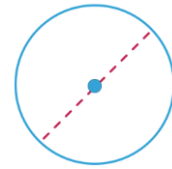
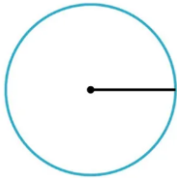


Nom i cognoms

Data

1. Dibuixa 2 polígons còncaus i 2 de convexos (1 punt).

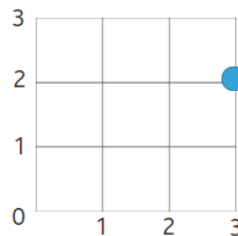
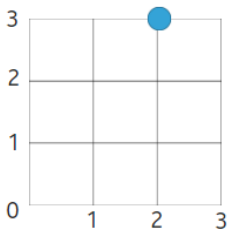
2. Escriu quin element apareix en cada circumferència (1 punt).



3. Traça una circumferència de radi 2 cm. Quant mesurarà el diàmetre? (1 punt).

El diàmetre mesurarà  cm.

4. Escriu les coordenades dels punts (1 punt).



5. Dibuixa 1 cercle a l'est i un quadrat a l'oest (1 punt).




# Prova




Nom i cognoms

Data

6. Observa el model i dibuixa una figura semblant i una altra d'igual (1 punt).



Semblant




Igual


7. Dibuixa una piràmide amb base pentagonal i un prisma amb bases hexagonals (1 punt).



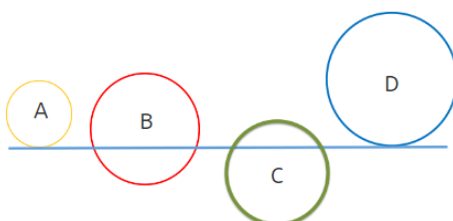
8. Escriu el nom d'estos cossos redons (1 punt).



9. Dibuixa una recta secant i una circumferència exterior a esta circumferència (1 punt).



10. Observa i completa (1 punt).



La recta és secant a les circumferències  A  B i  D  
i tangent a les circumferències  C i  D .