

Prova



Nom i cognoms:

Data:

1. Observa la imatge i inventa un esdeveniment que siga segur (1 punt).



2. Indica si són verdaderes o falses estes afirmacions (1 punt).



És segur que traga una bola roja.


És impossible que traga bola verda.

És possible que traga bola blava.

És segur que traga una bola negra.

3. Observa el pictograma i completa la taula de freqüències (1 punt).

Nombre de cries de balena

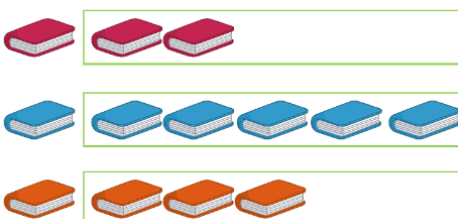


Juny	25
Juliol	
Agost	
Setembre	

4. Quantes balenes hauries de dibuixar a l'octubre si es van comptar 5 cries de balena? (1 punt).

1 2 3

5. Indica amb marques de recompte el nombre de llibres de cada color (1 punt).



Rosa

Blau

Taronja

Prova



Nom i cognoms:

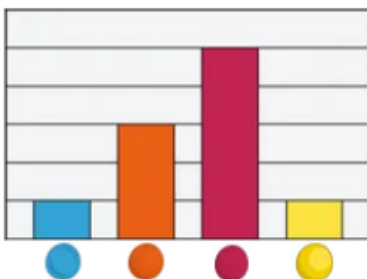
Data:

6. Elabora un gràfic de barres amb les dades d'esta taula (1 punt):

Color	Roig	Verd	Blau	Marró
Quantitat	4	5	3	6

7. Observa el gràfic de l'activitat 6 i escriu amb les teues paraules com pots saber de quin color n'hi ha més (1 punt).

8. Observa el gràfic i indica de quins colors n'hi ha la mateixa quantitat (1 punt).



- De color rosa i taronja
- De color groc i blau
- De color blau i taronja

9. Observa el gràfic. Inventa 2 preguntes que pugues respondre a partir del gràfic i escriu-ne la resposta (2 punts).

