

Prova



Nom i cognoms:

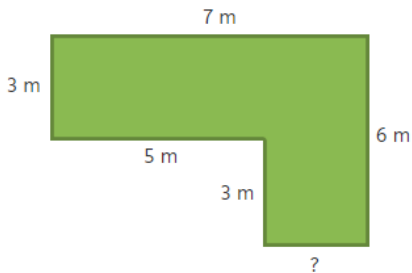
Data:

1. Amb quantes línies blaves pots encerclar el rectangle verd? (1 punt).



Puc encerclar-lo amb línies blaves.

2. Quant fa el perímetre del jardí de Carla? (1 punt).

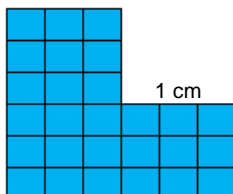


El perímetre fa metres.

3. Encercla la foto amb menor superfície (1 punt):




4. Quina superfície té la figura blava? (1 punt).



Té una superfície de centímetres quadrats.

5. Pinta una figura que tinga 12 centímetres quadrats de superfície (1 punt).




Prova



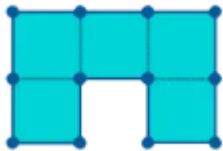
Nom i cognoms:

Data:


6. Dibuixa una figura amb àrea 4  i perímetre 8 (1 punt).



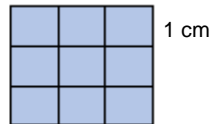

7. Calcula l'àrea i el perímetre de la figura (1 punt).



Àrea: 

Perímetre: 

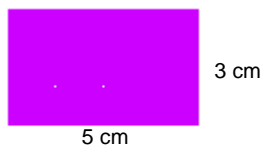
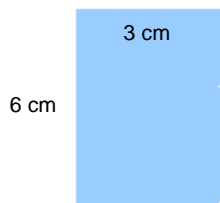
8. Calcula l'àrea del rectangle i el quadrat (1 punt).



Àrea = cm quadrats.

Àrea = cm quadrats.

9. Són iguals, les àrees dels rectangles? Justifica la resposta (1 punt).



10. Dibuixa un quadrat i calcula'n l'àrea (1 punt).

