

Prova

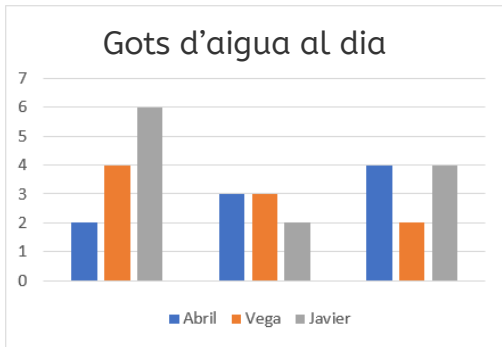


Nom i cognoms

Data

Gràfics de barres triples

1. Quants gots d'aigua beu Vera el segon dia? (1 punt).



Vega beu gots d'aigua el segon dia.

Relacionar gràfics i taules

2. Arreplega les dades del gràfic anterior en la taula (1 punt).

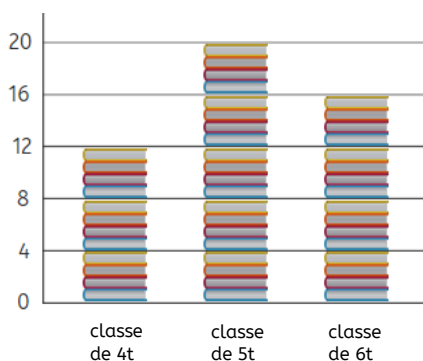
	Dia 1	Dia 2	Dia 3
Abril	2	3	4
Vega	4	3	2
Javier	6	2	4

3. Marca amb una creu qui dels 3 beu més aigua al llarg dels 3 dies (1 punt).

Abril Vega Javier

Interpretar pictogrames

4. Quants llibres han llegit en la classe de 5t? (1 punt).



En la classe de 5t han llegit llibres.

5. Observa el pictograma de l'exercici anterior. Quants llibres més han llegit en la classe 6t que de 4t? (1 punt).

En la classe de 6t han llegit llibres més que en la de 4t.

Prova



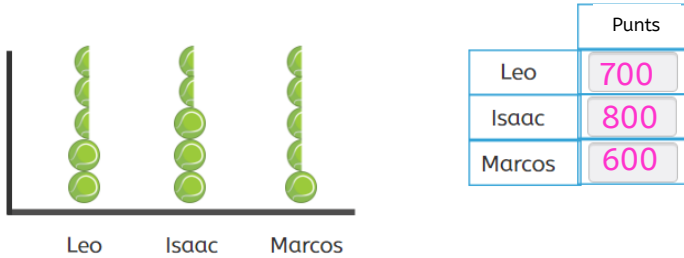
Nom i cognoms

Data

Relacionar gràfics

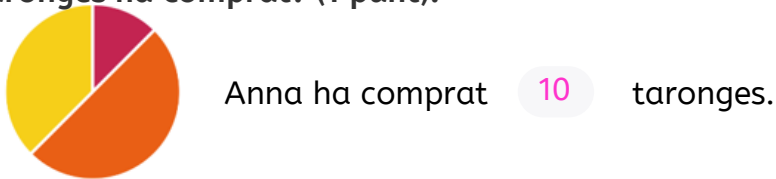
6. Observa el gràfic i completa la taula (1 punt).

 200 punts  100 punts

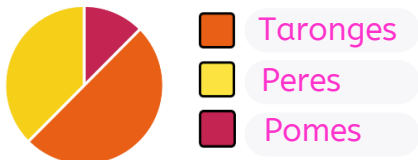


Gràfics de sectors

7. Observa el gràfic de sectors que representa el nombre de fruites que ha comprat Anna en la botiga. Si sabem que són 20 fruites en total, quantes taronges ha comprat? (1 punt).

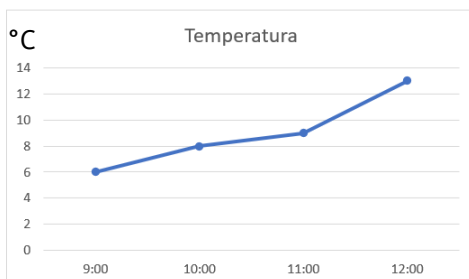


8. Completa la llegenda del gràfic anterior si saps que ha comprat 7 peres i 3 pomes (1 punt).



Gràfics de línies

9. Observa el gràfic i escriu la temperatura a les 12:00 hores (1 punt).



A les 12:00 feia °C.

Més i menys probable

10. Completa amb el color més probable (1 punt).



És més probable tocar un quadro .