

Prova



Nom i cognoms

Data

Comptar grups d'objectes

1. Quantes estrelles de cada color hi ha? (1 punt)

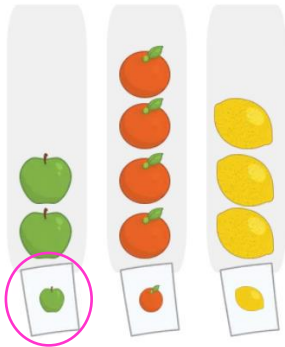


2. Escriu el nombre d'objectes de cada color (1 punt).



Mostrar grups d'objectes

3. Encercla l'etiqueta de la fruita de la qual n'hi ha menys quantitat (1 punt).



4. Observa el gràfic i completa amb la quantitat (1 punt).

Hi ha taronges i llimes.

Taules de recompte

5. Explica amb les teues paraules per a què servixen les marques de recompte (1 punt).

Les marques de recompte servixen per anotar en una taula el nombre

d'objectes que hi ha de cada tipus.

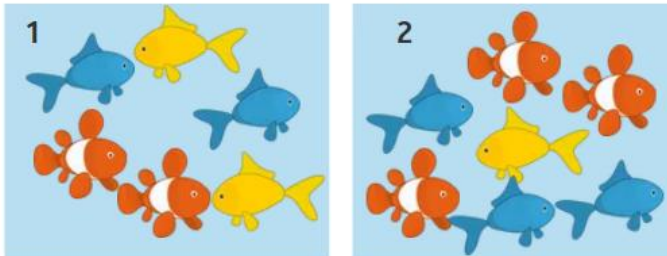
Prova



Nom i cognoms

Data

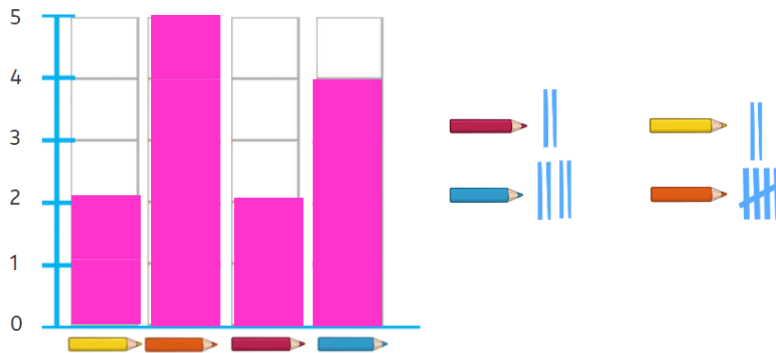
6. Completa la taula amb les marques de recompte (1 punt).



Color	Peixera 1	Peixera 2
Taronja		
Groc		
Blau		

Concepte de gràfic de barres

7. Observa les marques de recompte i completa el gràfic de barres (1 punt).



8. Observa el gràfic anterior. De quins colors hi ha la mateixa quantitat de llapis? Marca-ho amb una creu (1 punt).

Groc Taronja Roig Blau

Interpretar pictogrames

9. Quantes palometes ha comptat Coia? Completa (1 punt).

Nombre de palometes comptades.	
Naia	
Zineb	
Coia	
= 2 palometes	

Coia ha comptat **4** palometes..

10. Quantes palometes van comptar entre les tres? Marca-ho amb una creu (1 punt).

16 18 9 8