

Prova



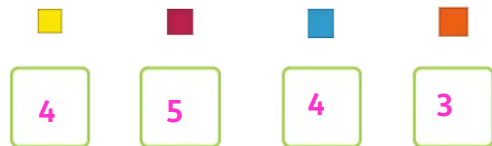

Nom i cognoms

Data

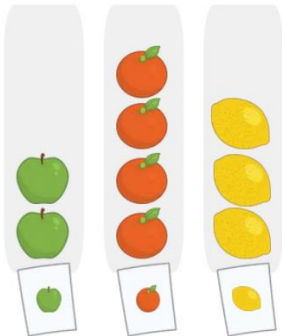
1. Quantes estrelles de cada color hi ha? (1 punt)



2. Escriu el nombre d'objectes de cada color (1 punt).



3. Encercla l'etiqueta de la fruita de la qual n'hi ha menys quantitat (1 punt).



4. Observa el gràfic i completa amb la quantitat (1 punt).

Hi ha taronges i llimes.

5. Explica amb les teues paraules per a què servixen les marques de recompte (1 punt).

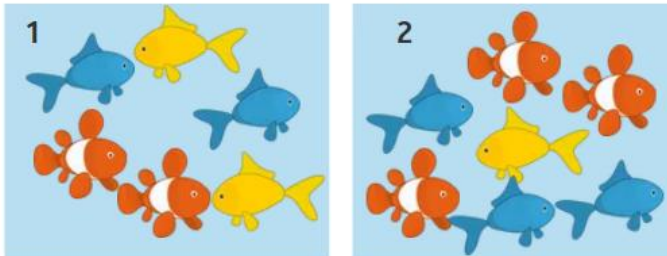
Prova



Nom i cognoms

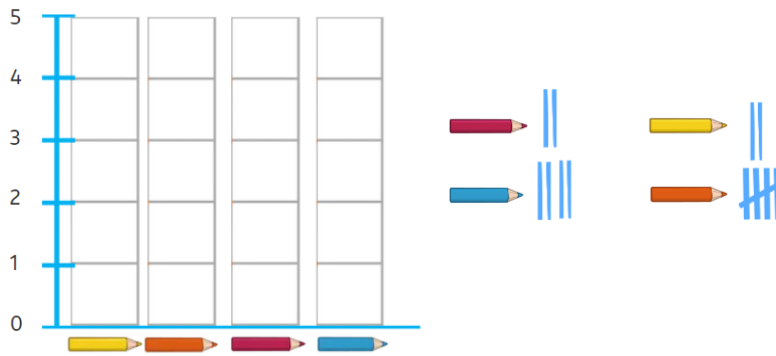
Data

6. Completa la taula amb les marques de recompte (1 punt).



| Color | Peixera 1 | Peixera 2 |
|---------|-----------|-----------|
| Taronja | | |
| Groc | | |
| Blau | | |

7. Observa les marques de recompte i completa el gràfic de barres (1 punt).



8. Observa el gràfic anterior. De quins colors hi ha la mateixa quantitat de llapis? Marca-ho amb una creu (1 punt).

Groc Taronja Roig Blau

9. Quantes palometes ha comptat Coia? Completa (1 punt).

| Nombre de palometes comptades. | |
|--------------------------------|--|
| Naia | |
| Zineb | |
| Coia | |
| = 2 palometes | |

Coia ha comptat palometes.

10. Quantes palometes van comptar entre les tres? Marca-ho amb una creu (1 punt).

16 18 9 8