

Prova



Nom i cognoms:

Data:

Classificar quadrilàters

1. Escribe el nombre de estos cuadriláteros (1 punto):



Trapezoide



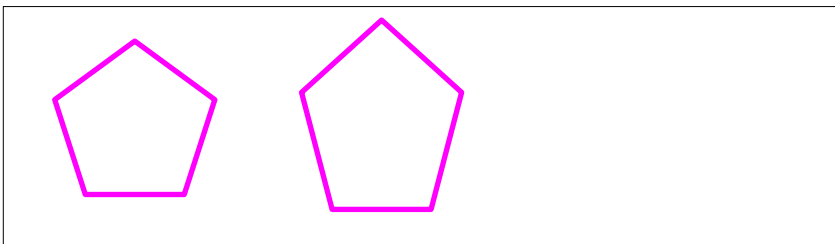
Trapezi



Rombe

Classificar altres polígons

2. Dibuixa un pentàgon regular i un d'irregular (1 punt).



Conèixer elements de cercle i circumferència

3. Dibuixa sobre la circumferència una corda i un sector circular (1 punt).



Propietats de prismes i piràmides

4. Quantes arestes té una piràmide hexagonal? Marca amb una creu l'opció correcta (1 punt).

6

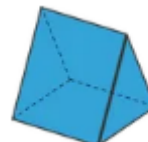
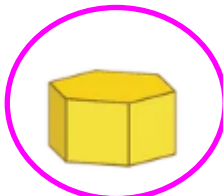
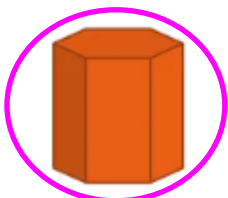
10

12

18

Classificar cossos geomètrics

5. Encercla els prismes (1 punt).



Prova

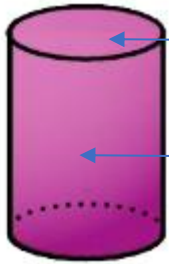


Nom i cognoms:

Data:

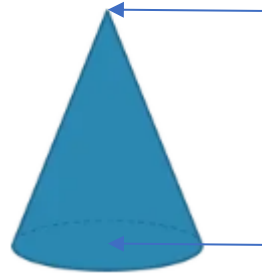
Saber les propietats dels cossos redons

6. Escriu els elements d'estos cossos redons (1 punt).



Base

Superfície lateral corba



Vèrtex

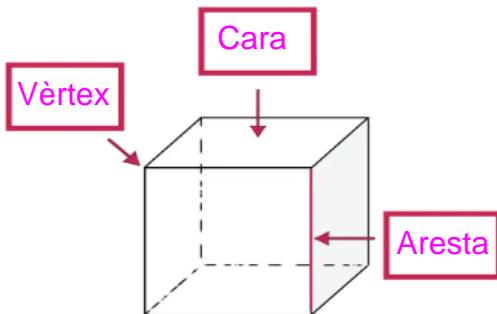
Base

7. Encercla els objectes que se semblen a una esfera (1 punt).



Cares, vèrtexs, arestes

8. Escriu el nom dels elements (1 punt).



Desenvolupament pla dels cossos geomètrics

9. Dibuixa el desenvolupament pla d'un con (1 punt).



Els angles

10. Encercla l'angle de més amplitud (1 punt).

