

# Prova



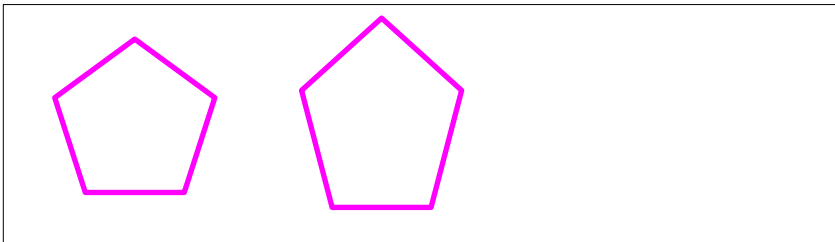
Nom i cognoms:

Data:


1. Escribe el nom d'estos cuadriláteros (1 punt):



2. Dibuixa un pentàgon regular i un d'irregular (1 punt).



3. Dibuixa sobre la circumferència una corda i un sector circular (1 punt).



4. Quantes arestes té una piràmide hexagonal? Marca amb una creu l'opció correcta (1 punt).

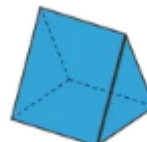

6

10

12

18

5. Encercla els prismes (1 punt).



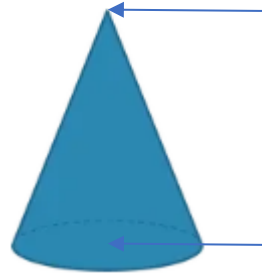
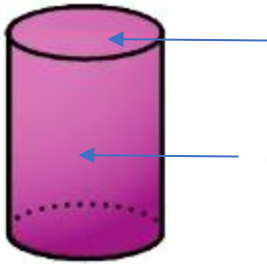
# Prova



Nom i cognoms:

Data:

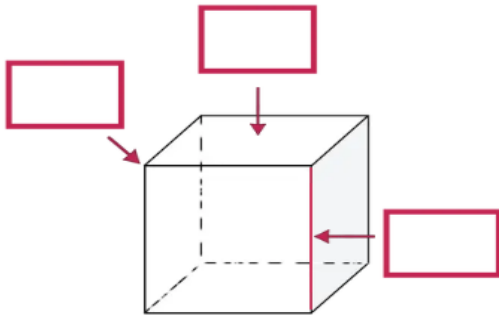
6. Escriu els elements d'estos cossos redons (1 punt).



7. Encercla els objectes que se semblen a una esfera (1 punt).



8. Escriu el nom dels elements (1 punt).



9. Dibuixa el desenvolupament pla d'un con (1 punt).

10. Encercla l'angle de més amplitud (1 punt).

