

Prova



Nom i cognoms:

Data:

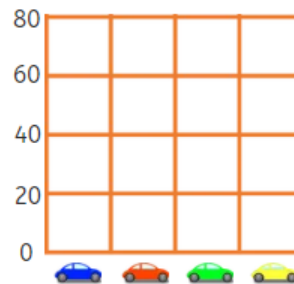
1. Si cada imatge equival a 5, quantes creus s'utilitzen en el joc? (1 punt).

Formes utilitzades en el joc				
Cercle				
Quadrat				
Triangle				
Creu				

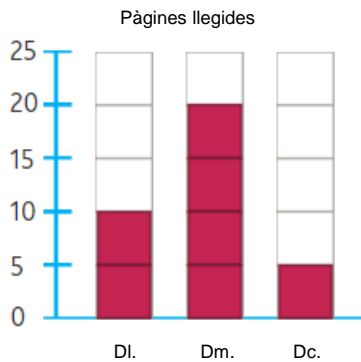
En el joc s'utilitzen creus.

2. Observa la taula i pinta el gràfic (1 punt).

Cotxe				
Nombre	20	20	40	60

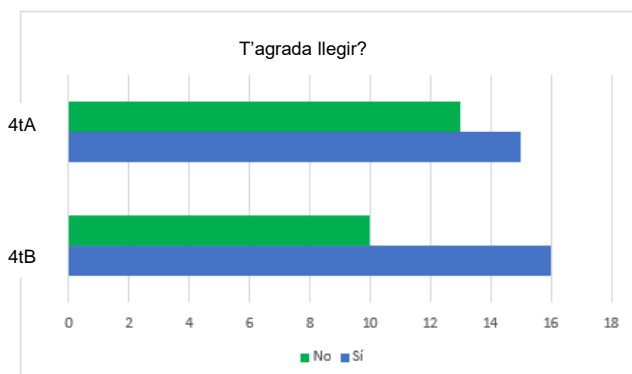


3. Quantes pàgines més va llegir Anna dimarts més que dilluns? (1 punt).



Dimarts va llegir pàgines més que dilluns.

4. Observa el gràfic i indica si són verdaderes o falses estes afirmacions (2 punts).



En 4t A hi ha més persones a qui els agrada llegir.

En 4t B hi ha més alumnes.

En 4t B hi ha 13 persones a qui els agrada llegir.

Prova



Nom i cognoms:

Data:

5. Han preguntat a 100 persones quina és la seua mascota favorita. Quantes persones tenen els peixos com a mascota favorita? (1 punt).



Gossos Gats
 Pardals Peixos

persones tenen els peixos com a mascota favorita.

6. Escriu quantes persones han triat la resta de mascotes (1 punt).

Gossos →

Gats →

Pardals →

7. Escriu 3 dades qualitatives i 3 quantitatives (1 punt).

8. Observa la ruleta i marca amb una creu quin color té menys probabilitat d'eixir (1 punt).




Blau

Groc

Roig

9. De quin color és el peix que tindràs més possibilitats d'agarrar? (1 punt).



Tindrè més possibilitats d'agarrar el peix .