

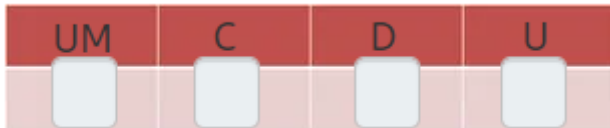
Prova



Nom i cognoms:

Data:

1. Completa la descomposició de 4.567 (1 punt).



$$4.567 = \boxed{} + \boxed{} + \boxed{} + \boxed{}$$

2. Marca amb una creu (x) el número de quatre xifres que té en 7 a les unitats de miler, en 5 a les centenes, en 6 a les desenes i en 9 a les unitats (1 punt).

9.756

5.769

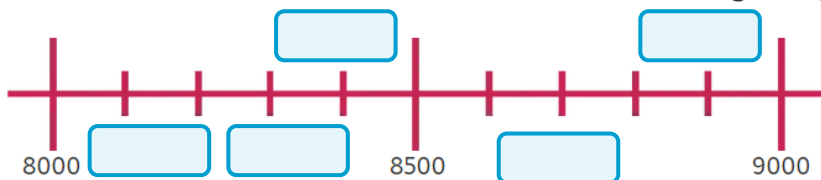
7.569

3. Escriu com es lligen estos números (1 punt):

2.659 □

6.246 □

4. Escriu 8.672 en la marca de la recta a on cregues que se situa (1 punt).



5. Ordena estos números del més xicotet al més gran (1 punt).

6254

6135

6167

5997

4292

5108

Prova



Nom i cognoms:

Data:




















6. Arredonix els números com s'indica (1 punt).

A la unitat de miler 7.299

A la centena més pròxima 2.659

7. Escriu i representa un número parell i un número senar (1 punt).

8. Quantes palometes hi ha en total? Completa els requadros blaus (1 punt).

					<input type="text"/>
					<input type="text"/>
					<input type="text"/>
					
<input type="text"/>	<input type="text"/>	<input type="text"/>	<input type="text"/>		

En total hi ha palometes.

9. Quants llibres hi ha? (1 punt).

		<input type="text"/>	<input type="text"/>	<input type="text"/>
---	---	----------------------	----------------------	----------------------

10. Representa amb un dibuix la suma de 4 bosses amb 3 boles en cada una (1 punt).