

Prova



Nom i cognoms:

Data:

Comptar fins a 1.000

1. Completa les sèries comptant d'un en un (1 punt).

693	694	695	696
745	746	747	748

Comptar arrere fins a 1.000

2. Marca amb una creu els números que segueixen el 247 comptant cap arrere (1 punt).

248, 249, 250 246, 247, 248 246, 245, 244

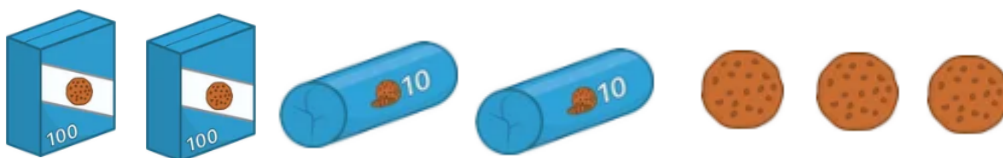
Comptar passant per una centena

3. Continua la sèrie comptant d'1 en 1 (1 punt).



Comptar elements fins a 1.000 agrupant

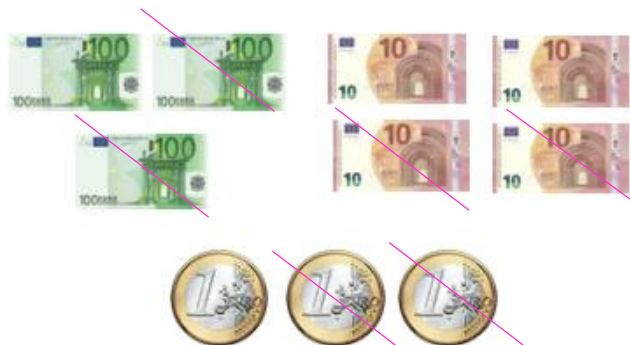
4. Quantes galletes hi ha en total? (1 punt).



Hi ha **223** galletes en total.

Comptar fins a 1.000 amb bots de 10

5. Ratlla les monedes i els bitllets necessaris perquè queden 121 € (1 punt).



Prova



Nom i cognoms:

Data:

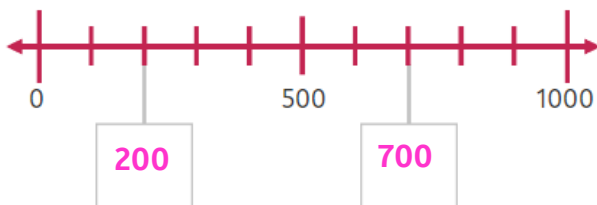
Comptar fins a 1.000 amb bots de 5

6. Inventa i escriu una sèrie en la qual comptes de 5 en 5 (1 punt).

Resposta lliure.

Comptar amb centenes

7. Completa els números que falten en la recta (1 punt).



Comparar 2 números fins al 1.000

8. Completa els parells de números amb els símbols $>$, $<$ o $=$ (1 punt).

134 $<$ 143

625 $>$ 619

322 $<$ 511

Ordenar números fins al 1.000

9. Ordena estos números del més xicotet al més gran (1 punt).

625

613

616

599

429

510

429

510

599

613

616

625

10. Inventa 2 sèries de 6 números cada una, i ordena-les de més gran a més xicotet utilitzant els símbols corresponents (1 punt).

Resposta lliure.