

# Prova

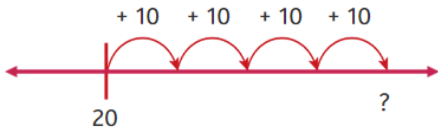


Nom i cognoms:

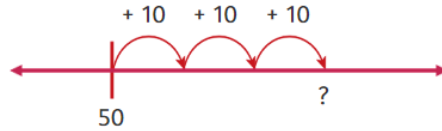
Data:

## Sumar i restar amb desenes

1. Completa les operacions que es representen en cada recta (1 punt).



$$20 + 40 = 60$$



$$50 + 30 = 80$$

## Sumar i restar fins al 100 amb recorreguts en una taula

2. Calcula les operacions següents i marca el recorregut que seguixes en la taula (1 punt).

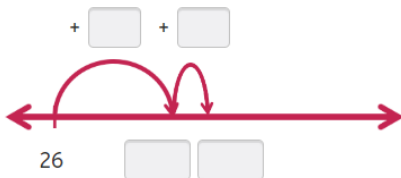
$$11 + 13 = 24$$

$$46 - 15 = 31$$

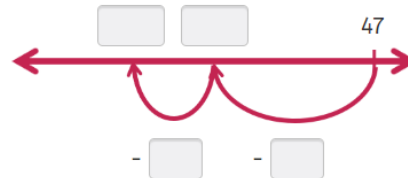
1	2	3	4	5	6	7	8	9	10
11	12	13	14	15	16	17	18	19	20
21	22	23	24	25	26	27	28	29	30
31	32	33	34	35	36	37	38	39	40
41	42	43	44	45	46	47	48	49	50

## Sumar i restar per damunt de la desena fins al 100 amb la recta numèrica

3. Completa les rectes i calcula les operacions (1 punt).



$$26 + 8 = 34$$



$$47 - 9 = 38$$

## Sumar i restar per damunt de la desena fins al 100

4. Calcula estes operacions (1 punt).

$$38 - 9 = 29$$

$$25 + 7 = 32$$

$$94 - 8 = 86$$

$$39 + 6 = 45$$

## Sumar fins al 100 sense portar-ne. Restar fins al 100 sense portar-ne

5. Calcula les sumes i les restes sense portar-ne (1 punt).

$$\begin{array}{r} 57 \\ + 22 \\ \hline 79 \end{array}$$

$$\begin{array}{r} 77 \\ - 64 \\ \hline 13 \end{array}$$

$$\begin{array}{r} 34 \\ + 65 \\ \hline 99 \end{array}$$

$$\begin{array}{r} 59 \\ - 38 \\ \hline 21 \end{array}$$

# Prova



Nom i cognoms:

Data:

## Sumar tres números sense portar-ne

6. Íria ha passejat 12 minuts al matí, 23 a la vesprada i 34 abans de sopar. Quants minuts ha passejat en total? (1 punt).



Ha passejat **69** minuts.

## Sumar fins al 100 portant-ne

7. Marc ha vist la tele 25 minuts este matí i 25 abans d'anar a dormir. Quants minuts ha estat veient la tele? (1 punt).

Ha vist la tele durant **50** minuts.



8. Calcula estes operacions (1 punt).

$70 - 36 = 34$

$82 - 25 = 57$

## Restar portant-ne en el minuend

## Restar fins al 100 portant-ne en el minuend

9. Eduard està llegint un còmic de 74 pàgines. Si ja se n'ha llegit 27, quantes pàgines li queden per llegir? (1 punt)



Li queden **47** pàgines.

## Restar fins a 100 completant

10. Carla té 38 adhesius i la seua germana Aitana, 76. Quants adhesius més té Aitana que Carla? (1 punt)

Aitana té **38** enganxines més que Carla.

