



# Prova

Nom i cognoms


  

Data

Sumar quantitats. Entendre l'expressió de la suma. Situacions amb sumes

1. Laia té 5 peixos i li regalen 3 peixos més. Quants peixos té en total? (2 punts).



$$5 + \boxed{3} = \boxed{8}$$

Té  peixos.

Restar amb objectes. Entendre l'expressió de la resta. Situacions amb restes

2. Marc té 9 maduixes i se'n menja 5. Encercla quantes maduixes li queden (2 punts).

$$9 - 5 = \begin{matrix} 3 \\ \boxed{4} \\ 6 \\ 2 \end{matrix}$$





# Prova

Nom i cognoms

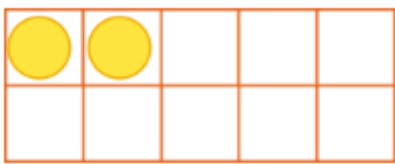
Data

## Compondre i descompondre números fins al 5

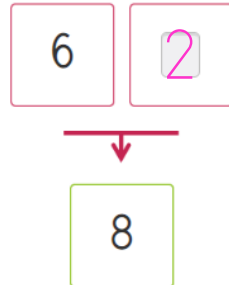
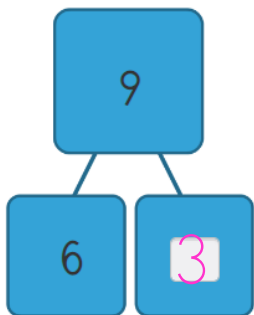
3. Quantes pilotes més necessites per a tindre'n.

4? Marca amb una creu (2 punts).



## Compondre i descompondre números fins al 9

4. Completa (2 punts).



## Compondre i descompondre el 10

5. Completa per a tindre'n 10 en cada cas (2 punts).

3 i

4 i

9 i

2 i