



# Prova


Nom i cognoms

Data

1. Laia té 5 peixos i li regalen 3 peixos més.  
Quants peixos té en total? (2 punts).



$$5 + \square = \square$$

Té  peixos.

2. Marc té 9 maduixes i se'n menja 5. Encercla quantes maduixes li queden (2 punts).

$$9 - 5 =$$

3  
4  
6  
2





# Prova

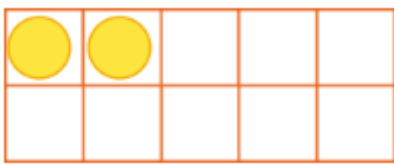
Nom i cognoms

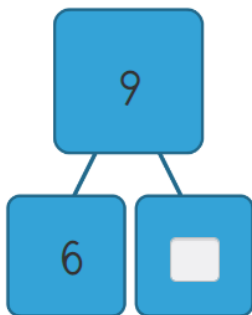
Data

3. Quantes pilotes més necessites per a tindre'n 4? Marca amb una creu (2 punts).

 2 4

4. Completa (2 punts).



5. Completa per per a tindre'n 10 en cada cas (2 punts).

3 i

4 i

9 i

2 i