

Prova



Nom i cognoms:

Data:

El calendari

1. Escriu quins dies de la setmana són el 25 de juny i el 23 de gener (1 punt).

25 de juny

Resposta lliure.

23 de gener

Resposta lliure.

Hores cada 15 minuts

2. Indica l'hora que marquen estos rellotges (1 punt).



Les onze i mitja



Les tres en punt



Les cinc i quart



Les dos menys quart

Quarts d'hora en rellotge digital

3. Dibuixa un rellotge digital i un d'analògic que marquen les set i quart de la vesprada (1 punt).

19 : 15



4. Són les huit i quart. Si Naia entra a l'escola a les nou en punt, quants minuts queden perquè hi entre? (1 punt)

Queden minuts perquè Naia entre a l'escola.

Les hores del dia

5. Marca amb una creu l'hora correcta en cada cas (1 punt).

M'he llavat les dents perquè acabe d'esmorzar.

08 : 30

21 : 30

11 : 15

Me'n vaig a dormir perquè demà he d'anar a l'escola.

16 : 30

10 : 30

21 : 15

Prova



Nom i cognoms:

Data:


Hores cada 5 minuts en rellotge analògic

6. Encercla el rellotge que marca les dotze i trenta-cinc (1 punt).




Hores cada 5 minuts en rellotge digital

7. Escriu l'hora que s'indica en cada rellotge (1 punt).



Les tres i vinst de la vesprada.



Les sis i trenta-cinc.

Els cèntims

8. Indica quants diners hi ha en cada grup (1 punt).




Hi ha 70 ct .



Hi ha 87 ct .

Imports menors d'1 euro

9. Dibuixa 37 cèntims utilitzant la menor quantitat de monedes possible (1 punt).



10. Enumera 4 coses que pugues comprar amb menys d'1 € (1 punt).

Resposta lliure.