

Prova




Nom i cognoms:

Data:

Itineraris

1. Inventa un itinerari perquè el pingüí arribe a l'iceberg (1 punt).



Resposta lliure.

Característiques (costats, vèrtexs, tipus de línia) en figures planes

2. Marca amb una creu les restes que tenen 4 cantons (1 punt).



Línies en figures planes

3. Dibuixa una forma tancada amb 6 cantons (1 punt).

Resposta lliure.

Noms de figures planes

4. Escriu el nom d'estes figures (1 punt).



Pentàgon



Hexàgon



Rombe

5. Escriu el nom de 2 figures que tinguin 4 costats i 4 cantons (1 punt).

Quadrat i rectangle

Prova



Nom i cognoms:

Data:

Conèixer propietats del cercle i de la circumferència

6. Encercla els cercles (1 punt).




Compondre i descompondre figures planes entre elles

7. Dibuixa un trapezi i descompon-lo en triangles (1 punt).

Resposta lliure.

Completar mosaics


8. De quines figures es compon este mosaic? (1 punt).



Es compon de **quadrats i rectangles**.

Completar un tangram

9. Dibuixa les peces del tangram i construeix una casa (1 punt).



Resposta lliure.

Diferències entre els cossos geomètrics

10. Encercla les figures que poden rodar (1 punt).

