

# Prova



Nom i cognoms:

Data:

## Punts, rectes i segments

1. Escriu el nom de cada element (1 punt).



Recta



Semirecta



Segment

## Tipus de línies

2. Dibuixa una línia poligonal oberta, una de tancada i una corba tancada (1 punt).

Resposta lliure.

## Angles

3. Indica el tipus d'angle segons amplitud (1 punt).



Agut





Obtús



Recte

## Polígons

4. Encercla els polígons (1 punt).



# Prova



Nom i cognoms:

Data:

## Noms de polígons

5. Escriu el nom d'estos polígons (1 punt).



Hexàgon



Triangle



Quadrilàter



Pentàgon

6. Com es diu el triangle que té tots els costats desiguals? (1 punt).

És el triangle

escalé

7. Marca amb una creu el nombre de costats i angles que té este polígon (1 punt).



6 costats i 6 angles

5 costats i 5 angles


4 costats i 5 angles

5 costats i 4 angles

## El tangram

8. Dibuixa una figura amb 4 de les peces del tangram que tinga almenys 1 eix de simetria (2 punts):

Resposta lliure.



## Posició relativa d'objectes

9. Dibuixa uns pardalets a la dreta de l'home en la foto de la teua esquerra (1 punt):

