

Prova



Nom i cognoms:

Data:


Completar una taula amb marques de recompte

1. Completa les marques de recompte en esta taula (1 punt).

Colors favorits	Recompte	Total
Blau 		9
Taronja 		5
Roig 		7

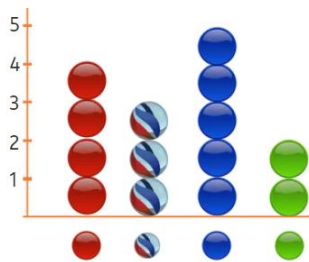
Introducció als gràfics de barres

2. Completa el gràfic de barres (1 punt).



Gràfics





3. Quantes boles blaves més que verdes hi ha? (1 punt).

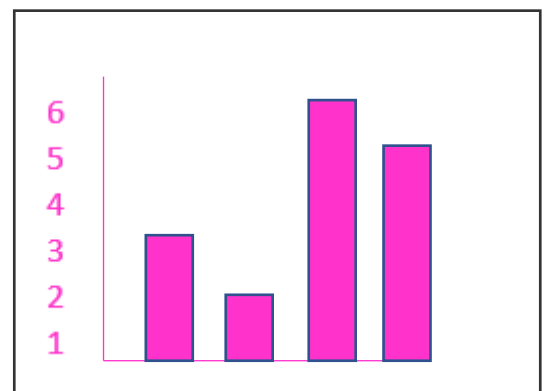


Hi ha boles blaves més.

Gràfic de barres a partir d'una taula

4. Dibuixa el gràfic que acompanya esta taula (2 punts).

color				
número	3	2	6	5



Prova

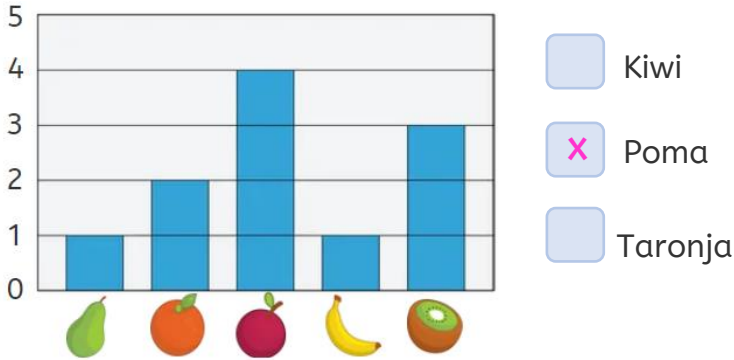


Nom i cognoms:

Data:

Interpretar gràfics de barres senzills

5. Marca amb una creu la fruita de la qual s'han consumit 4 peces (1 punt).



6. Quantes pomes i peres s'han menjat en total? (1 punt).

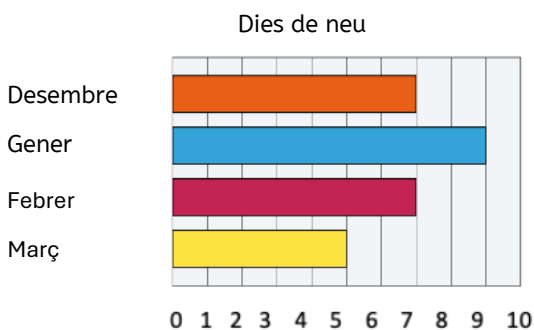
En total s'han menjat **5** pomes i peres.

7. De quines fruites s'han consumit menys peces? Encercla-les (1 punt).

pomes i peres plàtans i kiwis **peres i plàtans**

Fer càlculs a partir de gràfics o taules senzilles

8. Quants dies en total va nevar al desembre i al gener? (1 punt).



Va nevar **16** dies al desembre i al gener.

9. Arreplega en una taula les dades del gràfic anterior (2 punts).

	Desembre	Gener	Febrer	Març
Dies de neu	7	9	7	5