

Prova


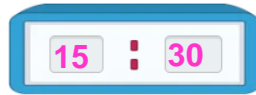


Nom i cognoms:

Data:

Dir l'hora al minut més pròxim

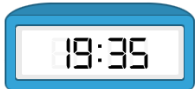
1. Ajusta els rellotges digitals a l'hora que marquen els analògics (1 punt).



... de la vesprada

... del matí

2. Escriu com es lligen les hores i si són de matí, vesprada o nit (1 punt).



Són les set i trenta-cinc de la vesprada.



Són les onze i vint-i-dos de la nit.

Convertir el temps entre analògic i digital

3. Dibuixa 3 rellotges i indica a quina hora fas estes accions (1 punt):

M'alce:

Isc de l'escola:

Me'n vaig a dormir:

Resposta lliure.

Resoldre problemes de temps en intervals de 5 min

4. Dídac va eixir les dos i mitja de la vesprada. Si va caminar 1 h i 27 minuts fins a sa casa seva, a quina hora hi va arribar? Marca-la en el rellotge (1 punt):



5. Pau va eixir bici durant 2 h i 15 minuts. Si va eixir a les 17:40, fins a quina hora hi va anar? Subratlla la resposta correcta (1 punt).

19 : 40

19 : 55

18 : 45

20 : 00

Prova



Nom i cognoms:

Data:

Resoldre problemes de temps

6. Observa els rellotges i completa (1 punt).



El viatge dura hores i minuts.

Eixida 6:49

Arribada 9:37

Comptar imports amb euros i cèntims

7. Dibuixa les monedes i els bitllets necessaris per a comprar la nina (1 punt).



Resposta lliure.

8. Marta tenia 17 € i 70 ct. en la vidriola. Si per l'aniversari ha rebut 24,50 € més, quants diners té ara Marta? Expressa-ho com a decimal (1 punt).

Marta té ara €.

Compravenda

9. Xavi ha comprat un videojoc per 37,75 €. Si ha pagat amb un bitllet de 50 €, quin canvi li han tornat? Encercla la resposta correcta (1 punt).



10. Observa i completa (1 punt):



Pagues amb:



Et tornaran euros.