

# Prova

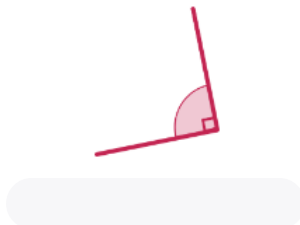


Nom i cognoms

Data

1. Dibuixa 2 rectes, 2 semirectes i 2 segments (1 punt).

2. Escriu quin tipus d'angle són segons l'amplitud (1 punt).



3. Marca amb una creu les opcions correctes (1 punt).



- El triangle té 2 angles rectes.
- El triangle té 2 angles aguts.
- El triangle té 1 angle recte.

4. Classifica cada triangle pels angles i els costats (1 punt).

5. Dibuixa 2 rectes perpendiculars que siguin secants a una altra (1 punt).

# Prova




Nom i cognoms

Data

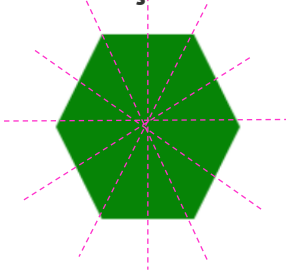
6. Selecciona la figura o les figures que tinguen 2 parells de costats paral·lels i 4 angles rectes (1 punt).

- Triangle       Rectangle       Quadrat       Trapezi

7. Acaba de dibuixar la palometa des de l'eix de simetria (1 punt).



8. Traça els eixos de simetria d'esta figura (1 punt).



9. Encercla els quadrilàters no paral·lelograms (1 punt).



10. Dibuixa 2 paral·lelograms i 1 no paral·lelogram (1 punt).