



Nom i cognoms

Data

Activitat 1

Llegeix aquesta situació i contesta.

«Pere tenia 7 euros estalviats. Ha comprat un regal per a la seva germana i s'ha gastat 3 euros. Pere vol saber quants euros li queden.»


- a) Marca amb una X el quadre per explicar el primer pas que cal fer per resoldre el problema. (1 punt)

Penso l'operació que cal fer.

Llegir i entendre l'enunciat.

Resoldre i contestar a la pregunta.

- b) Explica amb les teves paraules que cal fer en el problema. (1 punt)




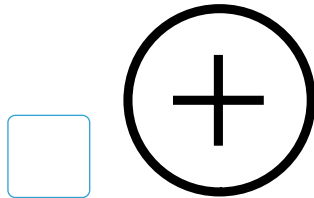
Nom i cognoms

Data

Activitat 1

Recorda: «Pere tenia 7 euros estalviats i ha comprat un regal de 3 euros.»


c) Tria i escriu quina operació matemàtica faràs servir. (1 punt)



d) Realitza les operacions i escriu la resposta del problema. (1 punt)

Resposta:

A Pere li queden...



Nom i cognoms

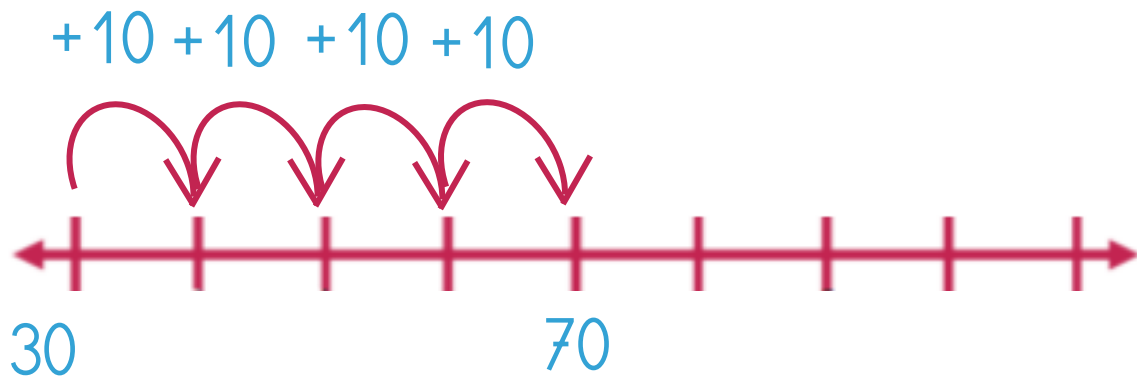
Data

Activitat 2

Llegeix aquesta situació i contesta.

«Mariana està fent una col·lecció de cromos.
El mes passat tenia 30 cromos, ara té 50
més. ¿Quants cromos té ara?»

Observa els salts en la recta numèrica.



a) ¿Estan bé aquests salts? Explica el que passa. (1 punt)

Prova competencial 2º trimestre



Nom i cognoms

Data

Activitat 2

Recorda: «Mariana tenia 30 cromos i li donen 50 cromos més. ¿Quants té?»

b) Dibuixa en la recta els salts segons el problema. (1 punt)



30

c) Contesta: ¿Quants cromos té ara Mariana? (1 punt)



Nom i cognoms

Data

Activitat 3

Els amics del 10.

a) Escriu en cada suma el nombre que falta per arribar al 10. (1 punt)

9	8	7	6	5	4	3	2	1
+	+	+	+	+	+	+	+	+
1	<input type="text"/>	<input type="text"/>	<input type="text"/>	<input type="text"/>	<input type="text"/>	<input type="text"/>	<input type="text"/>	<input type="text"/>
10	10	10	10	10	10	10	10	10

b) Escriu en l'Arc de Sant Martí els nombres amics del 10.

1	<input type="text"/>	<input type="text"/>	<input type="text"/>	<input type="text"/>	<input type="text"/>	<input type="text"/>	7	<input type="text"/>	9
---	----------------------	----------------------	----------------------	----------------------	----------------------	----------------------	---	----------------------	---



Nom i cognoms

Data

Activitat 3. (Continuació)

c) Escriu el nombre que falta en aquest problema. (1 punt)

Pista: Observa amb atenció el resultat final i recorda els amics del 10.

Problema: Toni té gomes d'esborrar

i li donen gomes més.
¿Quantes gomes té Toni?

Resultat: Toni té 10 gomes.