



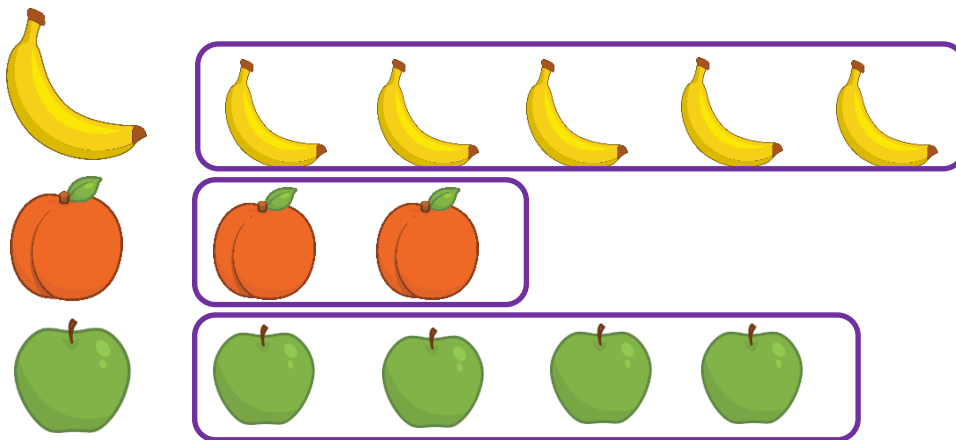
Nom i cognoms

Data

Activitat 1

Llegeix aquesta situació i contesta. (2 punts)

«En la classe de 2^o B han fet una enquesta sobre les fruites que més desitjen. Han preguntat a 11 alumnes i aquests són els resultats.»



a) Selecciona dues preguntes que es poden respondre amb el gràfic.

- a) ¿Quina fruita té més èxit?
- b) ¿Quantes fruites mengen dues persones?
- c) ¿Quants alumnes mengen plàtan?
- d) ¿Quina és la fruita que menys volen?

b) Contesta a les dues preguntes que has seleccionat.

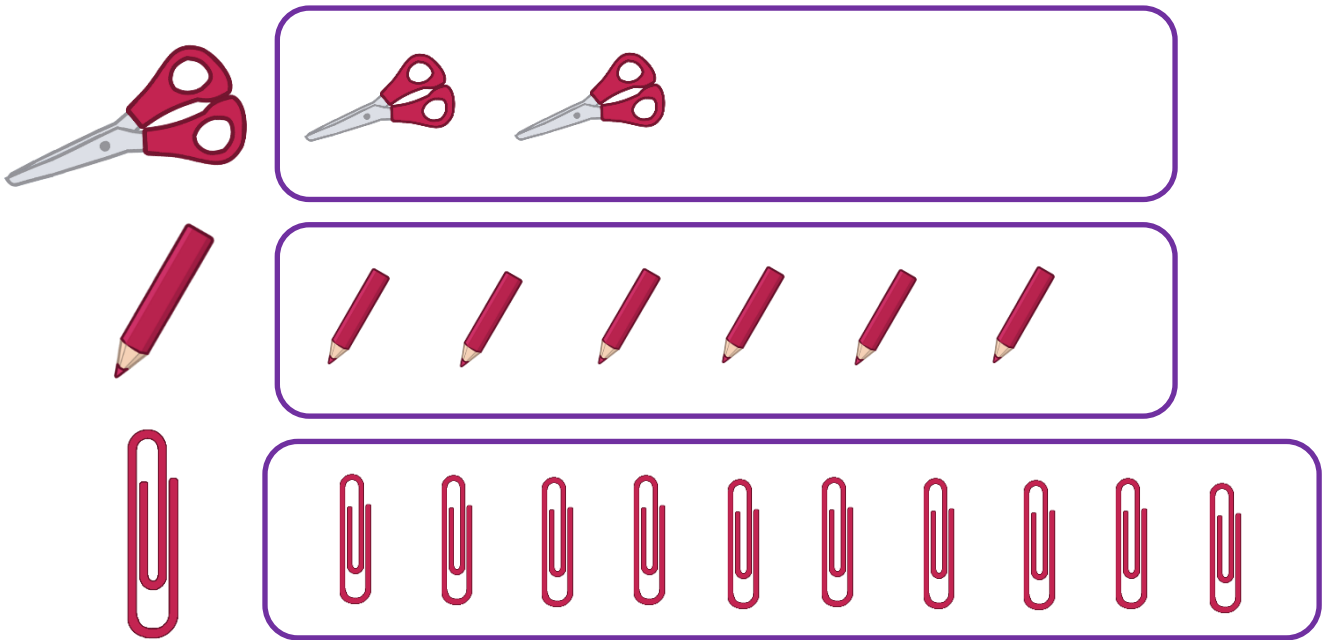


Nom i cognoms

Data

Activitat 2

Inventa un problema que es pugui resoldre amb les dades del gràfic. (2 punts)



a) Problema.

b) Solució.



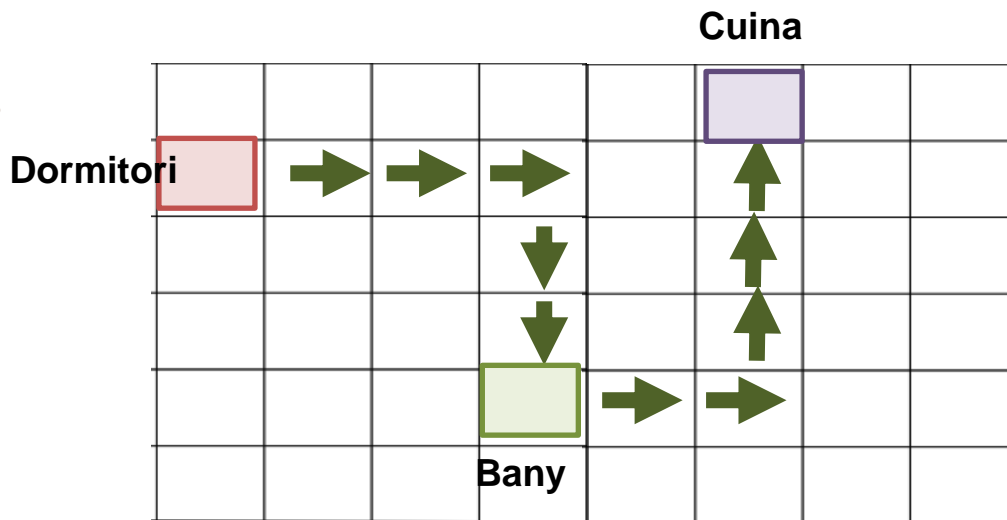
Nom i cognoms

Data

Activitat 3

Llegeix aquesta situació i contesta. (3 punts)

«Cada matí Paloma sempre fa el mateix recorregut des del dormitori fins la cuina, passant pel bany.»



a) Completa el següent text, cada fletxa representa un pas.

Paloma comença fent passos a la dreta , després

fa 2 passos cap al i arriba al bany.

Quan surt del bany, fa 2 passos més a la i recorre

..... passos capper arribar a la cuina.

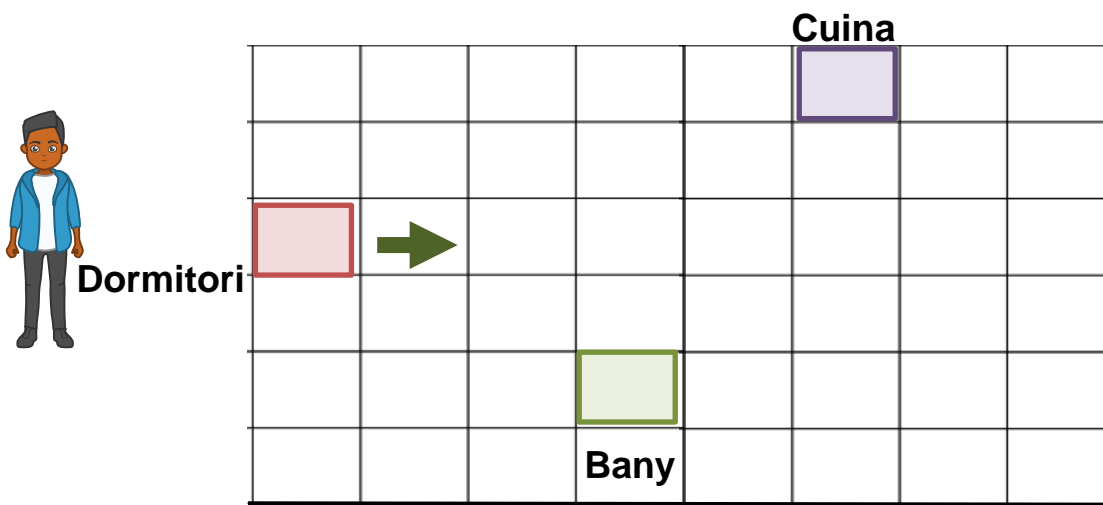


Nom i cognoms

Data

Activitat 3

b) Dibuixa el recorregut que fa el seu germà Issam si des del seu dormitori primer va a la cuina i després al bany. (cada fletxa és un pas)



c) Escriu el recorregut que realitza Issam.

Issam inicia el recorregut ...



Nom i cognoms

Data

Activitat 4

Contesta a les preguntes. (3 punts)



Cubell



Termo



Tassa



Olla

a) ¿Quin recipient utilitzaries per calcular aproximadament 1 litre d'aigua?

b) Completa aquestes oracions amb les paraules més o menys.

En el cubell i l'olla cap d'un litre d'aigua.

En la tassa cap d'un litre d'aigua.



Nom i cognoms

Data

Activitat 4

c) Observa i dedueix. Karla beu 4 tasses d'aigua tots els dies i Blai en beu 8 al dia.

¿Quants litres d'aigua beu cadascú al dia?

