








Nom i cognoms

Data

### Activitat 1

Tres amics decideixen apuntar-se en horari de tarda a les seves activitats preferides. Observa el calendari d'activitats del poliesportiu i respon a les preguntes. (2 punts)

Dilluns	Dimarts	Dimecres	Dijous	Divendres
				

a) ¿Quin dia va Joan a pintar?

b) **Teresa** vol jugar a tennis. ¿Quin dia va al poliesportiu?

c) El germà de Teresa, **Noé**, vol fer classes de guitarra. ¿Coincidirà amb la seva germana algun dia?

## Prova trimestral



Nom i cognoms

Data

d) Escriu a sota del dia de la setmana, el nom de cada persona que va al poliesportiu.

Dilluns	Dimarts	Dimecres	Dijous	Divendres

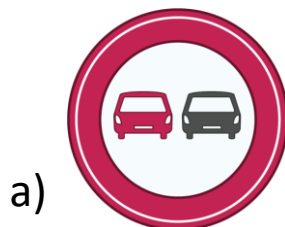
### Activitat 2

**Llegir i contestar.** (4 punts)

«Els senyals de trànsit amb forma **de triangle** avisen als conductors d'una zona on cal tenir molta atenció. Per exemple, una senyal de «Perill, zona escolar.»

D'altra banda les que tenen forma **de cercle** indiquen que està prohibit pels conductors. Per exemple : «Prohibit anar en bicicleta.»

a) Segons el text, indica quin senyal significa «**atenció**» i explica la teva raó.



## Prova trimestral



Nom i cognoms

Data

b) Dibuixa el que falta en aquest senyal per a que tingui el següent significat:

«Prohibit bicicletes.»



c) Explica amb les teves paraules aquest senyal.



**NOTA:** Pensa en com és, la seva forma, els colors i el seu significat.



Nom i cognoms

Data

### Activitat 3

Observa el menjador de la casa del Joan. (4 punts)



a) Completa les oracions utilitzant les paraules de sota. No cal utilitzar-les totes.

***a prop lluny Damunt a sota esquerra dreta***

- La cadira està ..... de Joan, però el sofà està .....
- ..... del prestatge hi ha una planta.
- La làmpara està al fons, ..... de la cadira i a l'..... del sofà (segons ho veu Joan).

## Prova trimestral



Nom i cognoms

Data

b) La mare de Joan no sap on ha deixat el seu portàtil i Joan creu que l'ha vist al menjador.

**Escriu** que li pot dir Joan a la seva mare per tal de trobar-lo. Escriu 3 frases amb aquestes expressions.

Lluny

A prop

Al Fons

A la dreta

A l'Esquerra

Menjador

Al costat

Al damunt

A sota

Davant

Darrere

Bany

## Prova trimestral



Nom i cognoms

Data

### Activitat 4

a) Pinta els quadrants en la gràfica segons les dades dels alumnes. (1 punt)



María



Hores  
d'esport  
a la  
setmana



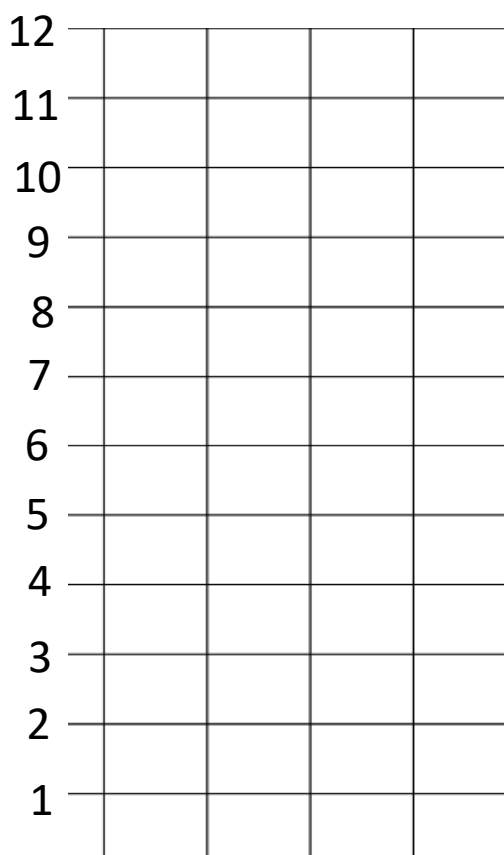
Fran



Susana



Óscar



b) Si les dades representen les hores que fan esport a la setmana. Escriu una pregunta que puguis contestar amb les dades. Contesta també a la pregunta. (1 punt)